

This Question Paper consists of 51 questions and 14 printed pages + 1 Outline Map of India.
इस प्रश्न-पत्र में 51 प्रश्न तथा 14 मुद्रित पृष्ठ + 1 भारत का रेखा-मानचित्र है।

Roll No.

--	--	--	--	--	--	--	--	--	--	--	--

अनुक्रमांक

Code No. 68/OS/2
कोड संख्या

Set / सेट –

A

SOCIAL SCIENCE
सामाजिक विज्ञान
(213)

Day and Date of Examination
(परीक्षा का दिन व दिनांक)

Signature of Invigilators

(निरीक्षकों के हस्ताक्षर)

1. _____

2. _____

General Instructions :

1. Candidate must write his/her Roll Number on the first page of the Question Paper.
2. Please check the Question Paper to verify that the total pages and the total number of questions contained in the Question Paper are the same as those printed on the top of the first page. Also check to see that the questions are in sequential order.
3. For the objective type of questions, you have to choose any **one** of the four alternatives given in the question i.e. (A), (B), (C) or (D) and indicate your correct answer in the Answer-Book given to you.
4. All the questions including objective type questions are to be answered within the allotted time and no separate time limit is fixed for answering objective type questions.
5. Making any identification mark in the Answer-Book or writing Roll Number anywhere other than the specified places will lead to disqualification of the candidate.
6. Write your Question Paper Code No. **68/OS/2, Set-**

A

 on the Answer-Book.
7. (a) The Question Paper is in English/Hindi medium only. However, if you wish, you can answer in any **one** of the languages listed below :
English, Hindi, Urdu, Punjabi, Bengali, Tamil, Malayalam, Kannada, Telugu, Marathi, Oriya, Gujarati, Konkani, Manipuri, Assamese, Nepali, Kashmiri, Sanskrit and Sindhi.
You are required to indicate the language you have chosen to answer in the box provided in the Answer-Book.
(b) If you choose to write the answer in the language other than Hindi and English, the responsibility for any errors/mistakes in understanding the questions will be yours only.

सामान्य अनुदेश :

1. परीक्षार्थी प्रश्न-पत्र के पहले पृष्ठ पर अपना अनुक्रमांक अवश्य लिखें।
2. कृपया प्रश्न-पत्र को जाँच लें कि प्रश्न-पत्र के कुल पृष्ठों तथा प्रश्नों की उतनी ही संख्या है जितनी प्रथम पृष्ठ के सबसे ऊपर छपी है। इस बात की जाँच भी कर लें कि प्रश्न क्रमिक रूप में हैं।
3. वस्तुनिष्ठ प्रश्नों में आपको चार विकल्पों (A), (B), (C) अथवा (D) में से कोई एक उत्तर चुनना है तथा दी गई उत्तर-पुस्तिका में आप सही उत्तर लिखिए।
4. वस्तुनिष्ठ प्रश्नों के साथ-साथ सभी प्रश्नों के उत्तर निर्धारित अवधि के भीतर ही देने हैं। वस्तुनिष्ठ प्रश्नों के लिए अलग से समय नहीं दिया जाएगा।
5. उत्तर-पुस्तिका में पहचान-चिह्न बनाने अथवा निर्दिष्ट स्थानों के अतिरिक्त कहीं भी अनुक्रमांक लिखने पर परीक्षार्थी को अयोग्य ठहराया जायेगा।
6. अपनी उत्तर-पुस्तिका पर प्रश्नपत्र की कोड संख्या **68/OS/2, Set-A** लिखें।
7. (क) प्रश्न-पत्र केवल अंग्रेजी/हिंदी माध्यम में है। फिर भी, यदि आप चाहें तो नीचे दी गई किसी एक भाषा में उत्तर दे सकते हैं :

अंग्रेजी, हिंदी, उर्दू, पंजाबी, बंगला, तमिल, मलयालम, कन्नड़, तेलुगू, मराठी, उड़िया, गुजराती, कोंकणी, मणिपुरी, असमिया, नेपाली, कश्मीरी, संस्कृत और सिंधी।

कृपया उत्तर-पुस्तिका में दिए गए बॉक्स में लिखें कि आप किस भाषा में उत्तर लिख रहे हैं।

(ख) यदि आप हिंदी एवं अंग्रेजी के अतिरिक्त किसी अन्य भाषा में उत्तर लिखते हैं तो प्रश्नों को समझने में होने वाली त्रुटियों / गलतियों की जिम्मेदारी केवल आपकी होगी।

General Instruction / सामान्य अनुदेश :

In case of any doubt or confusion in the question paper, the English Version will prevail.
प्रश्नपत्र में किसी भी प्रकार के संदेह अथवा दुविधा की स्थिति में अंग्रेजी अनुवाद ही मान्य होगा।

NOTE / निर्देश :

- (1) Answers of all questions are to be given in the Answer-Book given to you.

सभी प्रश्नों के उत्तर आपको दी गयी उत्तर पुस्तिका में ही लिखें।

- (2) 15 minutes time has been allotted to read this question paper. The question paper will be distributed at 02.15 p.m. From 02.15 p.m. to 02.30 p.m., the students will read the question paper only and will not write any answer on the answer-book during this period.

इस प्रश्न-पत्र को पढ़ने के लिए 15 मिनट का समय दिया गया है। प्रश्न-पत्र का वितरण दोपहर में 02.15 बजे किया जाएगा। 02.15 बजे से 02.30 बजे तक छात्र केवल प्रश्न-पत्र को पढ़ेंगे और इस अवधि के दौरान वे उत्तर-पुस्तिका पर कोई उत्तर नहीं लिखेंगे।

SOCIAL SCIENCE
सामाजिक विज्ञान
(213)

Time : 3 Hours]

[Maximum Marks : 100

समय : 3 घण्टे]

[पूर्णांक : 100

Note :

- (i) This question paper consists of **51** questions in all.
- (ii) **All** questions are **compulsory**.
- (iii) Marks are given against each question.
- (iv) **Section - A** consists of
 - (a) **Q. No. 1 to 20** - Multiple Choice Type Questions (MCQs) carrying **1** mark each. Select and write the most appropriate option out of the four options given in each of these questions.
 - (b) **Q. No. 21 to 35** - Objective type questions carrying **2** marks each (with **2** sub parts of **1** mark each). Attempt these questions as per the instructions given for each of the questions.
- Section - B** consists of
 - (c) **Q. No. 36 to 41** - Very Short answer type questions carrying **2** marks each to be answered in the range of **30 to 50** words. Attempt these questions as per the instructions given for each of the questions.
 - (d) **Q. No. 42 to 47** - Short answer type questions carrying **3** marks each to be answered in the range of **50 to 80** words.
 - (e) **Q. No. 48 & 49 - Skill (Map) based questions** carrying **4** marks each. (Alternative questions are given in lieu of map based questions for Visually Impaired students.)
 - (f) **Q. No. 50 & 51** - Long Answer type questions carrying **6** marks each to be answered in **80 to 120** words.

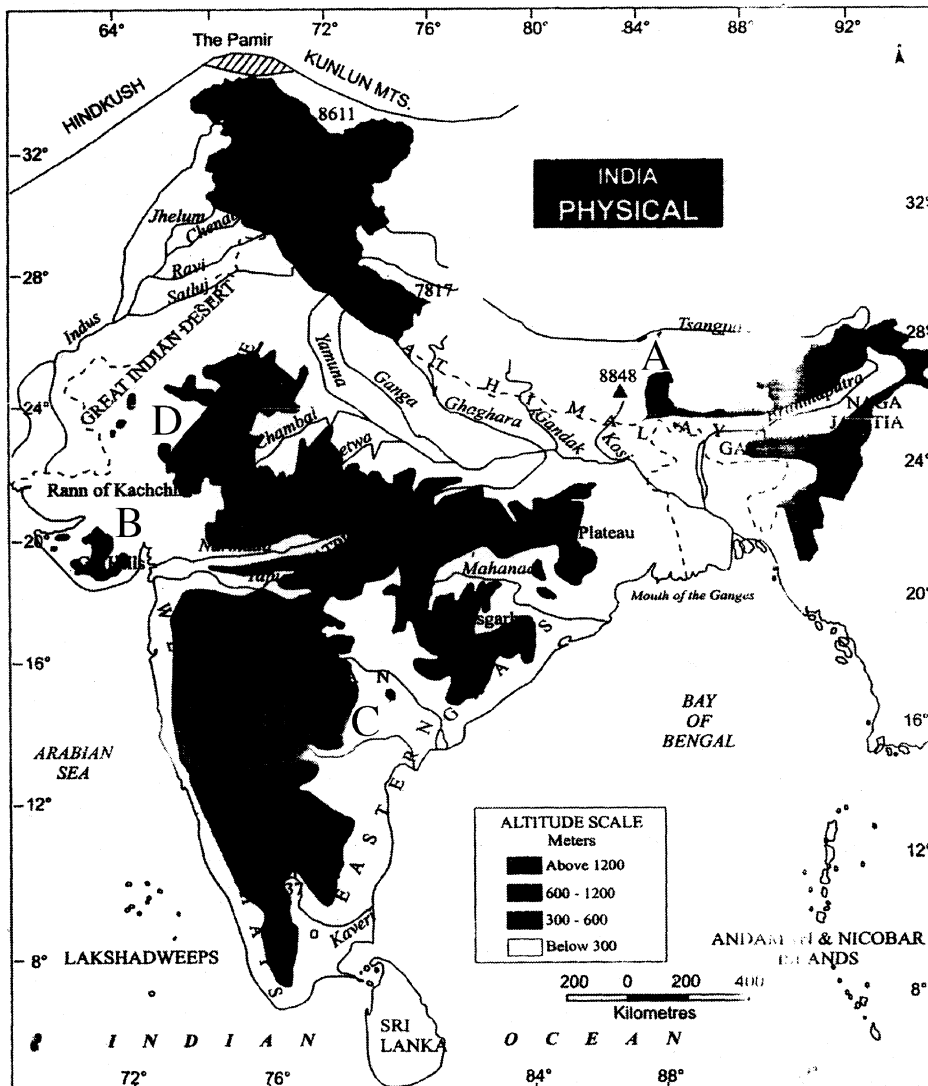
निर्देश :

- (i) इस प्रश्नपत्र में कुल **51** प्रश्न हैं।
- (ii) सभी प्रश्न अनिवार्य हैं।
- (iii) सभी प्रश्नों के अंक उनके साथ दिये गये हैं।
- (iv) खण्ड – अ के प्रश्न
 - (a) प्रश्न संख्या **1** से **20** तक – **1** अंक वाले बहुविकल्पीय प्रकार के प्रश्न हैं। दिये गये चार विकल्पों में से सर्वाधिक उपयुक्त विकल्प को चुनें तथा लिखें।
 - (b) प्रश्न संख्या **21** से **35** तक – **2** अंक वाले वस्तुनिष्ठ प्रकार के प्रश्न हैं। (इनमें से कुछ प्रश्नों में प्रत्येक **1** अंक के **2** उप-भागों के साथ)। इन प्रश्नों का उत्तर प्रश्नों के साथ दिये गये निर्देशों के अनुसार दीजिये।
- खण्ड – ब के प्रश्न
 - (c) प्रश्न संख्या **36** से **41** तक – **2** अंक वाले अति लघु-उत्तरीय प्रकार के प्रत्येक प्रश्न का उत्तर **30** से **50** शब्दों में दीजिये। इन प्रश्नों का उत्तर प्रश्नों के साथ दिये गये निर्देशों के अनुसार दें।
 - (d) प्रश्न संख्या **42** से **47** तक – **3** अंक वाले लघु-उत्तरीय प्रकार के प्रत्येक प्रश्न का उत्तर **50** से **80** शब्दों में दें।
 - (e) प्रश्न संख्या **48** एवं **49** – कौशल (मानचित्र) पर आधारित **4** अंक वाले प्रश्न हैं। (दृष्टिबाधित छात्रों हेतु मानचित्र पर आधारित प्रश्नों के स्थान पर वैकल्पिक प्रश्न दिये गये हैं।)
 - (f) प्रश्न संख्या **50** एवं **51** – **6** अंक वाले दीर्घ-उत्तरीय प्रकार के प्रत्येक प्रश्न का उत्तर **80** से **120** शब्दों में दें।

SECTION - A / खण्ड - अ

- 1 In which of the following years a German Priest called Martin Luther first challenged the authority of the Roman Catholic Church? 1
निम्नलिखित में से किस वर्ष में मार्टिन लूथर नामक एक जर्मन पुजारी ने रोमन कैथोलिक चर्च के अधिकारियों को पहली बार चुनौती दी?
(A) 1517 (B) 1617
(C) 1817 (D) 1417
- 2 Where was the Glorious Revolution of 1688 occurred, which proved a source of inspiration for the world? 1
(A) England (B) France
(C) German (D) Poland
निम्नलिखित में से किस देश में 1688 की गौरवपूर्ण क्रान्ति हुई, जो अन्य दुनिया के लिए प्रेरणा का एक स्रोत बनी?
(A) इंग्लैंड (B) फ्रांस
(C) जर्मन (D) पोलैंड
- 3 Who among the following invented the hand powered spinning wheel? 1
(A) James Hargreaves (B) Jenny
(C) Edmond Cartwright (D) John Kay's
निम्नलिखित में से किसने एक हाथ संचालित चरखा स्पिनिंग जेनी का आविष्कार किया?
(A) जेम्स हरग्रीव्स (B) जेनी
(C) एडमंड कार्टराइट (D) जॉन केयस
- 4 In which of the following years a British passenger ship Lusitania was sunk by German U-boats killing 128 U.S. civilians who were travelling in the ship? 1
निम्नलिखित में से किस वर्ष एक ब्रिटिश यात्री जहाज लूसिटानिया को जर्मन की यू-बोट ने डूबा दिया जिसमें 128 अमेरिकी नागरिक यात्रा कर रहे थे?
(A) 1915 (B) 1815
(C) 1715 (D) 1515
- 5 Who among the following gotten permission from the Mugal emperor Jahangir to open factories at Agra, Ahmedabad and Broach in 1615? 1
(A) Sir Thomas Roe (B) Mir Jafar
(C) St. George (D) Vasco da Gama
1615 में निम्नलिखित में से किसे मुगल सम्राट जहाँगीर से आगरा, अहमदाबाद तथा भड़ूच में फैक्ट्री खोलने की अनुमति मिली?
(A) सर थॉमस रो (B) मीर जाफर
(C) सेंट जार्ज (D) वास्को दी गामा
- 6 Why was community of 75 sheep-wool weavers from the Gaya district in Bihar had almost given up weaving blanket? 1
(A) Due to lack of fund (B) Due to lack of water
(C) Due to lack of cereals (D) Due to lack of raw material
बिहार के गया जिले में भेड़-ऊन बुनकरों के 75 परिवारों के समुदाय ने कंबल बुनना क्यों बंद कर दिया?
(A) धन की कमी के कारण (B) पानी की कमी के कारण
(C) अनाज की कमी के कारण (D) कच्चे माल के अभाव के कारण

Study the given map carefully and answer the questions from 7 to 10.
 दिए गए मानचित्र का ध्यानपूर्वक अध्ययन कीजिए और प्रश्न संख्या 7 से 10 तक का उत्तर दीजिए।



7 Identify the peak of Himalaya marked 'A' on the map. 1

- (A) Namcha Barva (B) Mt. Everest
 (C) Nanda Devi (D) Garo

मानचित्र में अंकित 'A' हिमालय की चोटी की पहचान कीजिए।

- (A) नामचा बरवा (B) माउंट एवरेस्ट
 (C) नंदा देवी (D) गारो

8 Identify the hills marked 'B' on the map. 1

- (A) Gir Hills (B) Mishami Hills
 (C) Khasi Hills (D) Jaintia Hills

मानचित्र पर अंकित 'B' पहाड़ियों की पहचान कीजिए।

- (A) गिर हिल्स (B) मिशीमी हिल्स
 (C) खासी हिल्स (D) जयंतिया हिल्स

9 Identify the river marked 'C' on the map. 1

- (A) Kaveri (B) Mahanadi
(C) Krishna (D) Godavari

मानचित्र पर अंकित 'C' नदी की पहचान कीजिए।

- (A) कावेरी (B) महानदी
(C) कृष्णा (D) गोदावरी

10 Identify the mountain range marked 'D' on the map. 1

- (A) Satpura (B) Aravali
(C) Vindhyachal (D) Balaghat

मानचित्र पर अंकित 'D' पर्वत श्रेणी की पहचान कीजिए।

- (A) सतपुड़ा (B) अरावली
(C) विंध्याचल (D) बालाघाट

Note : Following questions are for visually impaired candidates only in lieu of Q No. 7 to 10.

नोट : निम्नलिखित प्रश्न केवल दृष्टिबाधित परीक्षार्थियों के लिए प्रश्न संख्या 7 से 10 के स्थान पर है।

7 Identify the highest peak of Himalaya. 1

- (A) Namcha Barwa (B) Mt. Everest
(C) Nanda Devi (D) Garo

हिमालय की सबसे ऊँची चोटी की पहचान कीजिए।

- (A) नामचा बरवा (B) माउंट एवरेस्ट
(C) नंदा देवी (D) गारो

8 Identify the hills located in Gujarat. 1

- (A) Gir Hills (B) Mishami Hills
(C) Khasi Hills (D) Jaintia Hills

गुजरात स्थित पहाड़ियों की पहचान कीजिए।

- (A) गिर हिल्स (B) मिशीमी हिल्स
(C) खासी हिल्स (D) जयंतिया हिल्स

9 Identify the longest river of the peninsular India. 1

- (A) Kaveri (B) Mahanadi
(C) Krishna (D) Godavari

प्रायद्वीपीय भारत की सबसे लंबी नदी की पहचान कीजिए।

- (A) कावेरी (B) महानदी
(C) कृष्णा (D) गोदावरी

10 Identify the mountain range located in Rajasthan. 1

- (A) Satpura (B) Aravali
(C) Vindhyachal (D) Balaghat

राजस्थान स्थित पर्वत श्रेणी की पहचान कीजिए।

- (A) सतपुड़ा (B) अरावली
(C) विंध्याचल (D) बालाघाट

- 11** Which famous lagoon is located at Malabar Coast? **1**
 (A) Vembanad (B) Sambhar
 (C) Chilka (D) Pulicat
 निम्नलिखित में से कौन सी प्रसिद्ध झील मालाबार तट पर स्थित है ?
 (A) वेम्बनाड (B) सांभर
 (C) चिल्का (D) पुलिकट
- 12** In which of the following Parts of Indian Constitution the Fundamental Rights are embodied? **1**
 (A) Part-I (B) Part-II
 (C) Part-III (D) Part-IV
 भारतीय संविधान के निम्न में से किस भाग में मौलिक अधिकार सम्मिलित किए गये हैं ?
 (A) भाग-I (B) भाग-II
 (C) भाग-III (D) भाग-IV
- 13** What is the minimum age requirement for appointment as Governor of any state in India? **1**
 (A) 35 years (B) 45 years
 (C) 30 years (D) 32 years
 भारत में किसी राज्य के राज्यपाल को नियुक्त होने के लिए कम से कम कितनी आयु होनी चाहिए ?
 (A) 35 वर्ष (B) 45 वर्ष
 (C) 30 वर्ष (D) 32 वर्ष
- 14** Who amongst the following was elected as the First President of India? **1**
 (A) Dr. Rajendra Prasad (B) Gyani Jail Singh
 (C) Neelam Sanjeev Reddy (D) Dr. A.P.J. Abdul Kalam
 निम्नलिखित में से किसे भारत के प्रथम राष्ट्रपति के रूप में निर्वाचित किया गया ?
 (A) डॉ. राजेन्द्र प्रसाद (B) ज्ञानी जैल सिंह
 (C) नीलम संजीव रेड्डी (D) डॉ. ए.पी.जे. अब्दुल कलाम
- 15** What is the Retirement age of Supreme Court Judges in India? **1**
 (A) 65 years (B) 60 years
 (C) 58 years (D) 62 years
 भारत में सर्वोच्च न्यायालय के न्यायाधीशों की सेवा-निवृत्ति की आयु क्या है ?
 (A) 65 साल (B) 60 साल
 (C) 58 साल (D) 62 साल

- 16 From the following, who is the leader of Civil Society organization related to Narmada Bachao Andolan in recent time? 1
- (A) Aruna Roy (B) Medha Patkar
(C) Anna Hazare (D) Ela Bhatt
- निम्नलिखित में से कौन नेता वर्तमान समय में सिविल सोसाइटी संगठन के प्रमुख नेता हैं जो नर्मदा बचाओ आन्दोलन से संबंधित है ?
- (A) अरुणा राय (B) मेधा पाटकर
(C) अन्ना हजारे (D) इला भट्ट
- 17 When did the Govt. of Nagaland start process of communitisation in all elementary schools? 1
- नागालैण्ड सरकार ने प्राथमिक विद्यालयों के सामुदायीकरण की प्रक्रिया को कब आरम्भ किया ?
- (A) 2002 (B) 2005
(C) 2006 (D) 2008
- 18 Which one of the following is **not** a National Political Party? 1
- (A) All India Congress Party (B) Bhartiya Janata Party
(C) Aam Aadmi Party (D) Rashtriya Janata Dal
- निम्नलिखित में से कौन सा राष्ट्रीय राजनीतिक दल नहीं है ?
- (A) अखिल भारतीय कांग्रेस पार्टी (B) भारतीय जनता पार्टी
(C) आम आदमी पार्टी (D) राष्ट्रीय जनता दल
- 19 When was the Right to Education Act passed by Parliament? 1
- संसद द्वारा शिक्षा का अधिकार अधिनियम कब पारित किया गया ?
- (A) 2009 (B) 2008
(C) 2007 (D) 2006
- 20 As per 2011 Census what is the literacy rate of India? 1
- सन 2011 की जनगणना के अनुसार भारत की साक्षरता दर कितनी है ?
- (A) 74.04% (B) 84.04%
(C) 64.03% (D) 54.04%

21 Choose the correct option to fill in the blanks : 2

The literal meaning of Renaissance is _____ it started in _____ around 14th century A.D.

- (A) Origin, France (B) Rebirth, Italy
(C) Rebirth, England (D) Reorigin, Germany

रिक्त स्थानों की पूर्ति के लिए सही विकल्प का चयन कीजिए :

पुनर्जागरण का शाब्दिक अर्थ है _____ यह _____ में 14वीं सदी के आसपास प्रारम्भ हुआ।

- (A) उत्पत्ति, फ्रांस (B) पुनर्जन्म, इटली
(C) पुनर्जन्म, इंग्लैण्ड (D) पुनःउत्पत्ति, जर्मनी

22 Choose the correct option to fill in the blanks : 2

The first great _____ sculptor was _____ who made the statue 'David'.

- (A) renaissance, Martin Luther (B) democracy Titian
(C) renaissance, Donatello (D) democracy, Leonardo

रिक्त स्थानों की पूर्ति के लिए सही विकल्प का चयन कीजिए :

_____ के प्रथम महान मूर्तिकार _____ थे जिन्होंने 'डेविड' की मूर्ति बनाई थी।

- (A) पुनर्जागरण, मार्टिन लूथर (B) लोकतंत्र, टाइटियन
(C) पुनर्जागरण, डोनाटेलो (D) लोकतंत्र, लियोनार्डो

23 Fill in the blanks : 2

The representatives of the 13 colonies called the meeting of the First Continental Congress at Philadelphia in _____ and appealed to the King of England not to impose _____ without their consent.

रिक्त स्थानों की पूर्ति कीजिए :

13 उपनिवेशों के प्रतिनिधियों ने _____ में फिलाडेल्फिया में पहली महाद्वीपीय कांग्रेस की बैठक बुलाई और इंग्लैंड के राजा से अपील की, कि उनकी सहमति के बिना _____ को लागू न करें।

24 Fill in the blanks : 2

In _____ Austria annexed two Slav states, Bosnia and Herzegovina, leading to hostility between _____ and Austria.

रिक्त स्थानों की पूर्ति कीजिए :

_____ में आस्ट्रिया ने दो स्लाव राज्यों बोस्निया और हर्जगोविना पर कब्जा कर लिया जो _____ और आस्ट्रिया के बीच दुश्मनी का कारण बना।

- 25** Complete the following statements. **2**
- (I) England succeeded in controlling trade with India and established the East India Company in _____.
- (II) In 1696 the company developed three villages into a city in Bengal and named it _____.
- निम्नलिखित वाक्यों को पूरा कीजिए।
- (I) इंग्लैन्ड भारत के साथ व्यापार नियंत्रित करने में सफल रहा और सन् _____ में ईस्ट इंडिया कंपनी की स्थापना की।
- (II) 1696 में बंगाल में तीन गाँवों को एक शहर में विकसित किया और इसे _____ नाम दिया।
- 26** Answer the following questions in one word. **2**
- (I) Which longitude has been selected as the central meridian for determining time in India?
- (II) As the monsoon winds are coming from South-West which state they will strike first?
- निम्नलिखित प्रश्नों का उत्तर एक शब्द में दीजिए।
- (I) भारत में किस देशान्तर को समय निर्धारण करने के लिए केन्द्रीय मध्याह्न के रूप में चयन किया गया ?
- (II) मानसूनी पवनों के दक्षिण-पश्चिम से आने के कारण किस राज्य में सर्व प्रथम वर्षा होगी ?
- 27** Answer the following questions in one word : **2**
- (I) Which state agency constructs and maintains the state highways connecting the state capital with district head quarters?
- (II) Which department of the Government of India constructs and maintains the North-South Corridor?
- निम्नलिखित प्रश्नों का उत्तर एक शब्द में दीजिए :
- (I) जिला मुख्यालयों के साथ राज्य की राजधानी को जोड़ने वाले राज्य राजमार्ग का निर्माण और रखरखाव राज्य की कौन सी संस्था करती है ?
- (II) उत्तर-दक्षिण गलियारे का निर्माण एवं रखरखाव भारत सरकार के किस विभाग द्वारा किया जाता है ?
- 28** Fill in the blanks : **2**
- The national television transmission service of India started in _____ is one of the biggest _____ of the world.
- रिक्त स्थानों की पूर्ति कीजिए :
- भारत की राष्ट्रीय टेलीविजन प्रसारण सेवा सन् _____ में शुरू किया जो संसार का सबसे बड़ा _____ में से एक है।
- 29** Fill in the blanks : **2**
- Indian Railway started in 1853 from _____ to _____ covering a distance of 34 km.
- रिक्त स्थानों की पूर्ति कीजिए :
- भारतीय रेल 1853 में _____ से _____ 34 किमी दूरी के बीच शुरू की गई थी।

- 30** Complete the following sentences : **2**
- (I) A practice where a person is compelled to serve without any payment called _____.
- (II) Selling and buying of human beings is called _____.
- निम्नलिखित वाक्यों को पूरा कीजिए :
- (I) बिना किसी भुगतान के किसी व्यक्ति को कार्य करने के लिए मजबूर करना कहलाता है _____।
- (II) मानव खरीद-फरोक्त कहलाता है _____।
- 31** Fill in the blanks : **2**
- Ten fundamental duties have been added in Part _____ of the Constitution under Article 51A in the year _____ through the 42nd Constitutional Amendment.
- रिक्त स्थानों की पूर्ति कीजिए :
- सन् _____ में 42वें संविधान संशोधन द्वारा संविधान के भाग _____ में अनुच्छेद 51अ में दस मूल कर्तव्यों को जोड़ा गया है।
- 32** Answer the following questions in one word. **2**
- (I) What is the term of the Legislative Assembly in India?
- (II) What is the age fixed for voting right in India?
- निम्नलिखित प्रश्नों का एक शब्द में उत्तर दीजिए।
- (I) भारत में विधानसभा का कार्यकाल कितना है ?
- (II) भारत में मताधिकार के लिए कितनी आयु निर्धारित की गई है ?
- 33** Answer the following questions in one word. **2**
- (I) Rashtriya Janata Dal is primarily a regional party of which state?
- (II) All India Anna Dravida Munnetra Kazhagam is primarily a regional party of which state?
- निम्नलिखित प्रश्नों का एक शब्द में उत्तर दीजिए :
- (I) 'राष्ट्रीय जनता दल' प्रमुख रूप से किस राज्य का क्षेत्रीय दल है ?
- (II) 'आल इंडिया अन्ना द्रविड़ मुनेत्र कणगम्' प्रमुख रूप से किस राज्य का क्षेत्रीय दल है ?
- 34** Complete the following sentences : **2**
- (I) _____ is the first woman President of India.
- (II) The term of the Lok Sabha is _____ years.
- निम्नलिखित वाक्यों को पूरा कीजिए :
- (i) _____ भारत की प्रथम महिला राष्ट्रपति हैं।
- (ii) लोकसभा का कार्यकाल _____ वर्ष है।
- 35** Fill in the blanks : **2**
- Mahatma Gandhi _____ is being implemented to enhance the livelihood security of people in _____.
- रिक्त स्थानों की पूर्ति कीजिए :
- महात्मा गाँधी _____ का कार्यान्वयन _____ में लोगों के लिए आजीविका सुरक्षित करने के लिए किया जा रहा है।

SECTION - B / खण्ड – ब

- 36** Describe any two endeavours of Raja Rammohan Roy in the field of social reforms. **2**
समाज सुधार के क्षेत्र में राजा राममोहन राय के किन्हीं दो कार्यों का वर्णन कीजिए।
- 37** Explain any two features of the Permanent Settlement. **2**
स्थायी बंदोबस्त के किन्हीं दो लक्षणों की व्याख्या कीजिए।
OR / अथवा
Explain any two endeavours of Jyotirao Govindrao Phule.
ज्योतिराव गोविन्दराव फूले के किन्हीं दो कार्यों की व्याख्या कीजिए।
- 38** Describe two main functions of Chief Minister in short. **2**
मुख्यमन्त्री के दो प्रमुख कार्यों का संक्षेप में वर्णन कीजिए।
OR / अथवा
Describe any two freedom given in Indian Constitution.
भारतीय संविधान में दी गयी किन्हीं दो स्वतंत्रताओं का वर्णन करें।
- 39** Describe two legislative related powers of a Governor. **2**
राज्यपाल की विधायी संबंधी दो शक्तियों का वर्णन कीजिए।
OR / अथवा
Describe any two powers of the Prime Minister of India related to Council of Ministers.
भारत के प्रधानमंत्री की मंत्रीमंडल संबंधित दो शक्तियों का वर्णन कीजिए।
- 40** Explain two characteristics of a Political Party. **2**
राजनीतिक दल की दो विशेषताओं की व्याख्या कीजिए।
- 41** Mention the conditions required to be recognised as a national political party. **2**
राष्ट्रीय राजनीतिक पार्टी की मान्यता प्राप्त करने के लिए आवश्यक शर्तों का उल्लेख कीजिए।
- 42** Define Imperialism. Mention two advantages of the growth of transportation in the colonies which helped in the spread of imperialism. **3**
साम्राज्यवाद को परिभाषित कीजिए। साम्राज्यवाद के प्रसार में मददगार, उपनिवेशों में हुए परिवहन विकास के दो लाभों का उल्लेख करें।
OR / अथवा
Describe any three negative impacts of imperialism.
साम्राज्यवाद के किन्हीं तीन नकारात्मक प्रभावों का वर्णन कीजिए।
- 43** Who introduced English education among the Muslims? Explain his/her contribution in this area. **3**
मुसलमानों में अंग्रेजी की शिक्षा किसने शुरू की? इस क्षेत्र में उनके योगदान का वर्णन कीजिए।
- 44** Describe any three factors affecting the climate of India. **3**
भारत की जलवायु को प्रभावित करने वाले किन्हीं तीन कारकों का वर्णन कीजिए।
- 45** Analyse any three characteristics of road transport in India. **3**
भारत में सड़क परिवहन की किन्हीं तीन विशेषताओं का विश्लेषण कीजिए।
OR / अथवा
Analyse any three characteristics of rail transport in India.
भारत में रेल परिवहन की किन्हीं तीन विशेषताओं का विश्लेषण कीजिए।

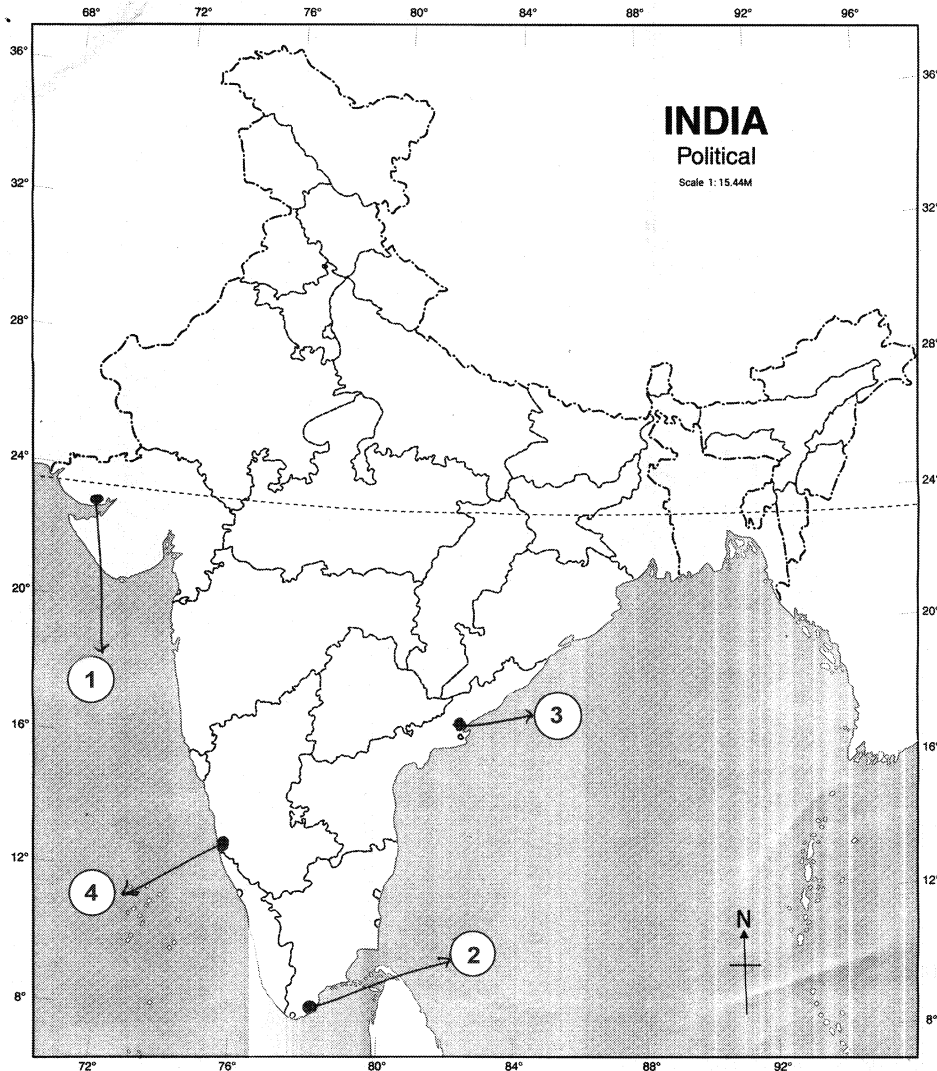
- 46 How is the concept of human development different from the traditional concept of social and economic development? Explain three points of differences. मानव विकास की अवधारणा पारम्परिक सामाजिक-आर्थिक विकास की अवधारणा से किस प्रकार भिन्न है? भिन्नता के तीन बिंदुओं में स्पष्ट कीजिए। 3

OR / अथवा

Explain any three tools available to a common citizen for making the government accountable.

एक आम नागरिक के लिए सरकार को उत्तरदायी बनाने के लिए उपलब्ध किन्हीं तीन साधनों को स्पष्ट कीजिए।

- 47 Explain any three points of importance of peace and security in the present time. वर्तमान समय में शान्ति व सुरक्षा के महत्व को तीन बिंदुओं में स्पष्ट कीजिए। 3
- 48 Identify and write in your answer book the correct names of major sea ports of India shown as 1, 2, 3, 4 in the given outline map of India. दिये गये भारत के रेखा मानचित्र में क्रमांक 1, 2, 3, 4 द्वारा दर्शाए गये मुख्य समुद्री पत्तनों को पहचानिए तथा उनके सही नाम अपनी उत्तर पुस्तिका में लिखिए। 4



Note : Following questions are for visually impaired candidates only in lieu of question 48.

नोट : निम्नलिखित प्रश्न केवल दृष्टिबाधित परीक्षार्थियों के लिए प्रश्न संख्या 48 के स्थान पर हैं।

Answer to these questions must not be in more than one word/sentence.

इन प्रश्नों में से प्रत्येक का उत्तर मात्र एक शब्द/वाक्य में दीजिए।

(1.1) In which state the Aravali mountains are located?

अरावली पर्वतमाला किस राज्य में स्थित है ?

(1.2) Where does the Narmada Valley lie?

नर्मदा घाटी कहाँ स्थित है ?

(1.3) Mention the names of the countries in which the Greater Himalayas are situated.

उन देशों के नाम लिखिए जिनमें महान हिमालय स्थित है।

(1.4) Name the two Purvanchal Hills.

दो पूर्वांचल पहाड़ियों के नाम बताइए।

49 In the given political outline map of India mark and label the following with appropriate symbols : **4**

(i) Western Ghat

(ii) Krishna River

(iii) Paradip Port

(iv) Porbandar

भारत के दिए गये राजनीतिक मानचित्र में निम्न को उपयुक्त चिन्हों की सहायता से दर्शाइए तथा उनके नाम लिखिए :

(i) पश्चिमी घाट

(ii) कृष्णा नदी

(iii) पारादीप बन्दरगाह

(iv) पोरबन्दर

Note : Following question is for visually impaired candidates only in lieu of Question No. 49.

नोट : निम्नलिखित प्रश्न केवल दृष्टिबाधित परीक्षार्थियों के लिए प्रश्न संख्या 49 के स्थान पर है।

Describe the four characteristics of Western Ghat.

पश्चिमी घाट की किन्हीं चार विशेषताओं का वर्णन कीजिए।

50 Describe six significant changes in the society due to Industrial Revolution. **6**

औद्योगिक क्रांति के कारण समाज में हुए छः महत्वपूर्ण बदलावों का वर्णन कीजिए।

OR / अथवा

Describe any six reasons of World War First.

प्रथम विश्व युद्ध के छः प्रमुख कारणों का वर्णन कीजिए।

51 Highlight any six functions of political parties to strengthen democracy. **6**

लोकतन्त्र को मजबूत करने के लिए राजनीतिक दलों के किन्हीं छः कार्यों का विश्लेषण कीजिए।

OR / अथवा

Suggest any six effective measures to reform political parties.

राजनीतिक दलों में सुधार के लिए कोई छः प्रभावी उपायों को सुझाइए।

Roll No.
अनुक्रमांक

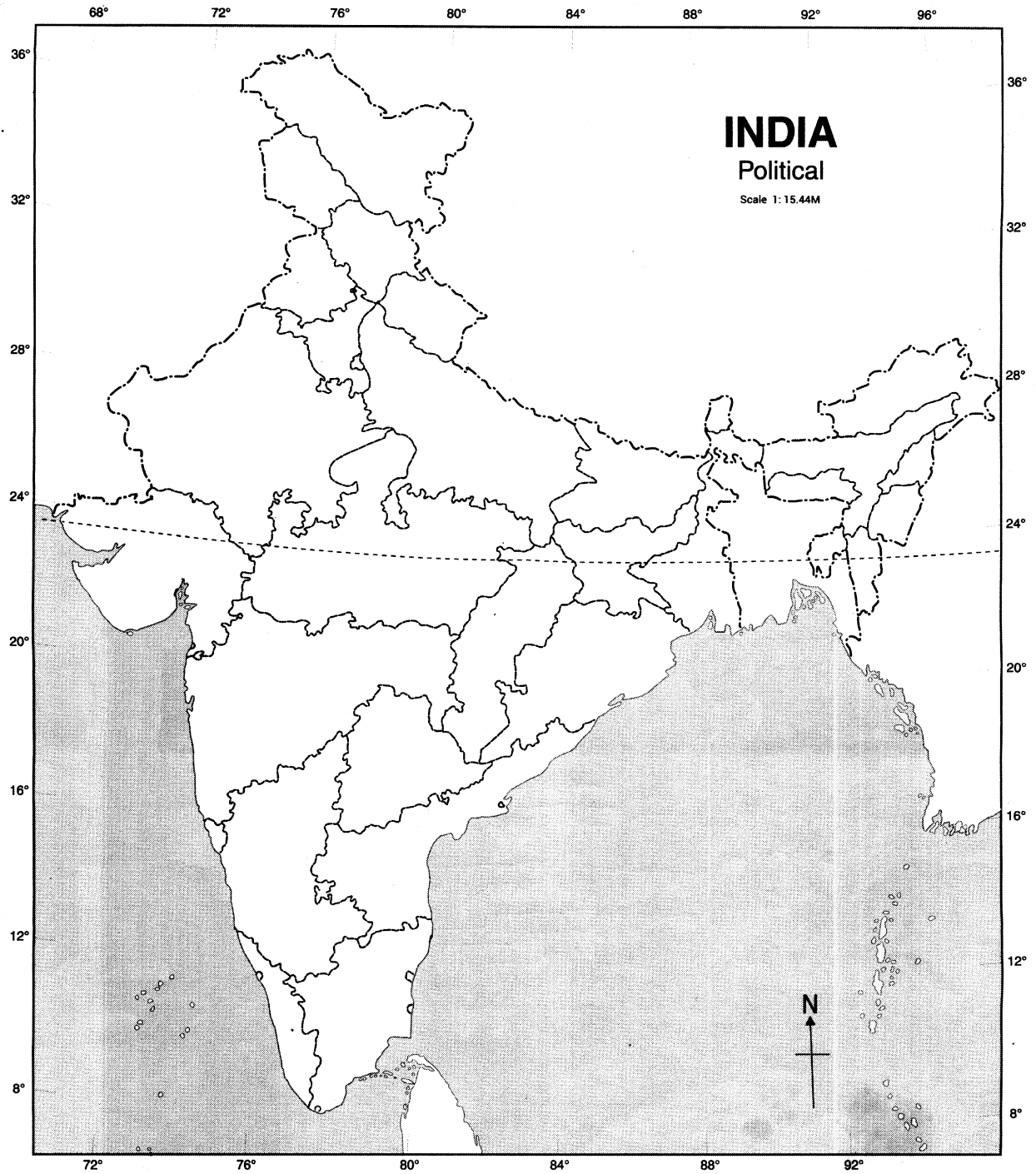
--	--	--	--	--	--	--	--	--	--	--

Map for Q. No. 49

प्रश्न सं. 49 के लिए रेखामानचित्र

भारत का रेखामानचित्र (राजनीतिक)

Outline Map of India (Political)



BLANK PAGE



This Question Paper consists of 51 questions and 14 printed pages + 1 Outline Map of India.
इस प्रश्न-पत्र में 51 प्रश्न तथा 14 मुद्रित पृष्ठ + 1 भारत का रेखा-मानचित्र है।

Roll No.

--	--	--	--	--	--	--	--	--	--	--	--

अनुक्रमांक

Code No. 68/OS/2
कोड संख्या

Set / सेट – **B**

SOCIAL SCIENCE
सामाजिक विज्ञान
(213)

Day and Date of Examination
(परीक्षा का दिन व दिनांक)

Signature of Invigilators

(निरीक्षकों के हस्ताक्षर)

1. _____

2. _____

General Instructions :

1. Candidate must write his/her Roll Number on the first page of the Question Paper.
2. Please check the Question Paper to verify that the total pages and the total number of questions contained in the Question Paper are the same as those printed on the top of the first page. Also check to see that the questions are in sequential order.
3. For the objective type of questions, you have to choose any **one** of the four alternatives given in the question i.e. (A), (B), (C) or (D) and indicate your correct answer in the Answer-Book given to you.
4. All the questions including objective type questions are to be answered within the allotted time and no separate time limit is fixed for answering objective type questions.
5. Making any identification mark in the Answer-Book or writing Roll Number anywhere other than the specified places will lead to disqualification of the candidate.
6. Write your Question Paper Code No. **68/OS/2, Set-**B**** on the Answer-Book.
7. (a) The Question Paper is in English/Hindi medium only. However, if you wish, you can answer in any **one** of the languages listed below :
English, Hindi, Urdu, Punjabi, Bengali, Tamil, Malayalam, Kannada, Telugu, Marathi, Oriya, Gujarati, Konkani, Manipuri, Assamese, Nepali, Kashmiri, Sanskrit and Sindhi.
You are required to indicate the language you have chosen to answer in the box provided in the Answer-Book.
(b) If you choose to write the answer in the language other than Hindi and English, the responsibility for any errors/mistakes in understanding the questions will be yours only.

सामान्य अनुदेश :

1. परीक्षार्थी प्रश्न-पत्र के पहले पृष्ठ पर अपना अनुक्रमांक अवश्य लिखें।
2. कृपया प्रश्न-पत्र को जाँच लें कि प्रश्न-पत्र के कुल पृष्ठों तथा प्रश्नों की उतनी ही संख्या है जितनी प्रथम पृष्ठ के सबसे ऊपर छपी है। इस बात की जाँच भी कर लें कि प्रश्न क्रमिक रूप में हैं।
3. वस्तुनिष्ठ प्रश्नों में आपको चार विकल्पों (A), (B), (C) अथवा (D) में से कोई एक उत्तर चुनना है तथा दी गई उत्तर-पुस्तिका में आप सही उत्तर लिखिए।
4. वस्तुनिष्ठ प्रश्नों के साथ-साथ सभी प्रश्नों के उत्तर निर्धारित अवधि के भीतर ही देने हैं। वस्तुनिष्ठ प्रश्नों के लिए अलग से समय नहीं दिया जाएगा।
5. उत्तर-पुस्तिका में पहचान-चिह्न बनाने अथवा निर्दिष्ट स्थानों के अतिरिक्त कहीं भी अनुक्रमांक लिखने पर परीक्षार्थी को अयोग्य ठहराया जायेगा।
6. अपनी उत्तर-पुस्तिका पर प्रश्नपत्र की कोड संख्या **68/OS/2, Set-B** लिखें।
7. (क) प्रश्न-पत्र केवल अंग्रेजी/हिंदी माध्यम में है। फिर भी, यदि आप चाहें तो नीचे दी गई किसी एक भाषा में उत्तर दे सकते हैं :

अंग्रेजी, हिंदी, उर्दू, पंजाबी, बंगला, तमिल, मलयालम, कन्नड़, तेलुगू, मराठी, उड़िया, गुजराती, कोंकणी, मणिपुरी, असमिया, नेपाली, कश्मीरी, संस्कृत और सिंधी।

कृपया उत्तर-पुस्तिका में दिए गए बॉक्स में लिखें कि आप किस भाषा में उत्तर लिख रहे हैं।

(ख) यदि आप हिंदी एवं अंग्रेजी के अतिरिक्त किसी अन्य भाषा में उत्तर लिखते हैं तो प्रश्नों को समझने में होने वाली त्रुटियों / गलतियों की जिम्मेदारी केवल आपकी होगी।

General Instruction / सामान्य अनुदेश :

In case of any doubt or confusion in the question paper, the English Version will prevail.
प्रश्नपत्र में किसी भी प्रकार के संदेह अथवा दुविधा की स्थिति में अंग्रेजी अनुवाद ही मान्य होगा।

NOTE / निर्देश :

- (1) Answers of all questions are to be given in the Answer-Book given to you.

सभी प्रश्नों के उत्तर आपको दी गयी उत्तर पुस्तिका में ही लिखें।

- (2) 15 minutes time has been allotted to read this question paper. The question paper will be distributed at 02.15 p.m. From 02.15 p.m. to 02.30 p.m., the students will read the question paper only and will not write any answer on the answer-book during this period.

इस प्रश्न-पत्र को पढ़ने के लिए 15 मिनट का समय दिया गया है। प्रश्न-पत्र का वितरण दोपहर में 02.15 बजे किया जाएगा। 02.15 बजे से 02.30 बजे तक छात्र केवल प्रश्न-पत्र को पढ़ेंगे और इस अवधि के दौरान वे उत्तर-पुस्तिका पर कोई उत्तर नहीं लिखेंगे।

SOCIAL SCIENCE
सामाजिक विज्ञान
(213)

Time : 3 Hours]

[Maximum Marks : 100

समय : 3 घण्टे]

[पूर्णांक : 100

Note :

- (i) This question paper consists of **51** questions in all.
- (ii) **All** questions are **compulsory**.
- (iii) Marks are given against each question.
- (iv) **Section - A** consists of
 - (a) **Q. No. 1 to 20** - Multiple Choice Type Questions (MCQs) carrying **1** mark each. Select and write the most appropriate option out of the four options given in each of these questions.
 - (b) **Q. No. 21 to 35** - Objective type questions carrying **2** marks each (with **2** sub parts of **1** mark each). Attempt these questions as per the instructions given for each of the questions.
- Section - B** consists of
 - (c) **Q. No. 36 to 41** - Very Short answer type questions carrying **2** marks each to be answered in the range of **30 to 50** words. Attempt these questions as per the instructions given for each of the questions.
 - (d) **Q. No. 42 to 47** - Short answer type questions carrying **3** marks each to be answered in the range of **50 to 80** words.
 - (e) **Q. No. 48 & 49 - Skill (Map) based questions** carrying **4** marks each. (Alternative questions are given in lieu of map based questions for Visually Impaired students.)
 - (f) **Q. No. 50 & 51** - Long Answer type questions carrying **6** marks each to be answered in **80 to 120** words.

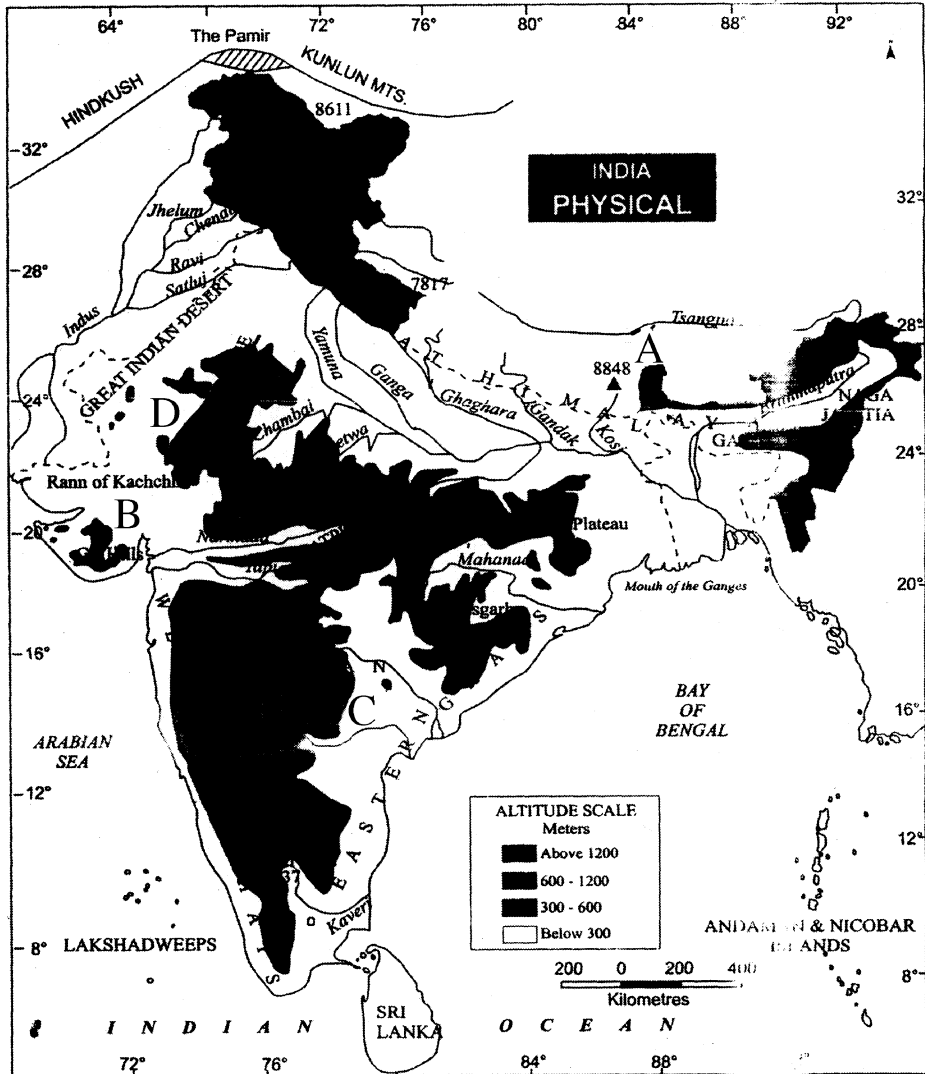
निर्देश :

- (i) इस प्रश्नपत्र में कुल **51** प्रश्न हैं।
- (ii) सभी प्रश्न अनिवार्य हैं।
- (iii) सभी प्रश्नों के अंक उनके साथ दिये गये हैं।
- (iv) खण्ड – अ के प्रश्न
 - (a) प्रश्न संख्या **1** से **20** तक – **1** अंक वाले बहुविकल्पीय प्रकार के प्रश्न हैं। दिये गये चार विकल्पों में से सर्वाधिक उपयुक्त विकल्प को चुनें तथा लिखें।
 - (b) प्रश्न संख्या **21** से **35** तक – **2** अंक वाले वस्तुनिष्ठ प्रकार के प्रश्न हैं। (इनमें से कुछ प्रश्नों में प्रत्येक **1** अंक के **2** उप-भागों के साथ)। इन प्रश्नों का उत्तर प्रश्नों के साथ दिये गये निर्देशों के अनुसार दीजिये।
- खण्ड – ब के प्रश्न
 - (c) प्रश्न संख्या **36** से **41** तक – **2** अंक वाले अति लघु-उत्तरीय प्रकार के प्रत्येक प्रश्न का उत्तर **30** से **50** शब्दों में दीजिये। इन प्रश्नों का उत्तर प्रश्नों के साथ दिये गये निर्देशों के अनुसार दें।
 - (d) प्रश्न संख्या **42** से **47** तक – **3** अंक वाले लघु-उत्तरीय प्रकार के प्रत्येक प्रश्न का उत्तर **50** से **80** शब्दों में दें।
 - (e) प्रश्न संख्या **48** एवं **49** – कौशल (मानचित्र) पर आधारित **4** अंक वाले प्रश्न हैं। (दृष्टिबाधित छात्रों हेतु मानचित्र पर आधारित प्रश्नों के स्थान पर वैकल्पिक प्रश्न दिये गये हैं।)
 - (f) प्रश्न संख्या **50** एवं **51** – **6** अंक वाले दीर्घ-उत्तरीय प्रकार के प्रत्येक प्रश्न का उत्तर **80** से **120** शब्दों में दें।

SECTION - A / खण्ड – अ

- 1** As per 2011 Census what is the literacy rate of India? **1**
सन 2011 की जनगणना के अनुसार भारत की साक्षरता दर कितनी है ?
(A) 74.04% (B) 84.04%
(C) 64.03% (D) 54.04%
- 2** When was the Right to Education Act passed by Parliament? **1**
संसद द्वारा शिक्षा का अधिकार अधिनियम कब पारित किया गया ?
(A) 2009 (B) 2008
(C) 2007 (D) 2006
- 3** When did the Govt. of Nagaland start process of communitisation in all **1**
elementary schools?
नागालैण्ड सरकार ने प्राथमिक विद्यालयों के सामुदायीकरण की प्रक्रिया को कब आरम्भ किया ?
(A) 2002 (B) 2005
(C) 2006 (D) 2008
- 4** From the following, who is the leader of Civil Society organization related **1**
to Narmada Bachao Andolan in recent time?
(A) Aruna Roy (B) Medha Patkar
(C) Anna Hazare (D) Ela Bhatt
निम्नलिखित में से कौन नेता वर्तमान समय में सिविल सोसाइटी संगठन के प्रमुख नेता हैं जो नर्मदा बचाओ आन्दोलन से संबंधित है ?
(A) अरुणा राय (B) मेधा पाटकर
(C) अन्ना हजारे (D) इला भट्ट
- 5** What is the Retirement age of Supreme Court Judges in India? **1**
(A) 65 years (B) 60 years
(C) 58 years (D) 62 years
भारत में सर्वोच्च न्यायालय के न्यायाधीशों की सेवा-निवृत्ति की आयु क्या है ?
(A) 65 साल (B) 60 साल
(C) 58 साल (D) 62 साल
- 6** What is the minimum age requirement for appointment as Governor of any **1**
state in India?
(A) 35 years (B) 45 years
(C) 30 years (D) 32 years
भारत में किसी राज्य के राज्यपाल को नियुक्त होने के लिए कम से कम कितनी आयु होनी चाहिए ?
(A) 35 वर्ष (B) 45 वर्ष
(C) 30 वर्ष (D) 32 वर्ष

Study the given map carefully and answer the questions from 7 to 10.
 दिए गए मानचित्र का ध्यानपूर्वक अध्ययन कीजिए और प्रश्न संख्या 7 से 10 तक का उत्तर दीजिए।



7 Identify the peak of Himalaya marked 'A' on the map. 1

- (A) Namcha Barwa (B) Mt. Everest
 (C) Nanda Devi (D) Garo

मानचित्र में अंकित 'A' हिमालय की चोटी की पहचान कीजिए।

- (A) नामचा बरवा (B) माउंट एवरेस्ट
 (C) नंदा देवी (D) गारो

8 Identify the hills marked 'B' on the map. 1

- (A) Gir Hills (B) Mishami Hills
 (C) Khasi Hills (D) Jaintia Hills

मानचित्र पर अंकित 'B' पहाड़ियों की पहचान कीजिए।

- (A) गिर हिल्स (B) मिशीमी हिल्स
 (C) खासी हिल्स (D) जयंतिया हिल्स

9 Identify the river marked 'C' on the map. 1

- (A) Kaveri (B) Mahanadi
(C) Krishna (D) Godavari

मानचित्र पर अंकित 'C' नदी की पहचान कीजिए।

- (A) कावेरी (B) महानदी
(C) कृष्णा (D) गोदावरी

10 Identify the mountain range marked 'D' on the map. 1

- (A) Satpura (B) Aravali
(C) Vindhyachal (D) Balaghat

मानचित्र पर अंकित 'D' पर्वत श्रेणी की पहचान कीजिए।

- (A) सतपुड़ा (B) अरावली
(C) विंध्याचल (D) बालाघाट

Note : Following questions are for visually impaired candidates only in lieu of Q No. 7 to 10.

नोट : निम्नलिखित प्रश्न केवल दृष्टिबाधित परीक्षार्थियों के लिए प्रश्न संख्या 7 से 10 के स्थान पर है।

7 Identify the highest peak of Himalaya. 1

- (A) Namcha Barwa (B) Mt. Everest
(C) Nanda Devi (D) Garo

हिमालय की सबसे ऊँची चोटी की पहचान कीजिए।

- (A) नामचा बरवा (B) माउंट एवरेस्ट
(C) नंदा देवी (D) गारो

8 Identify the hills located in Gujarat. 1

- (A) Gir Hills (B) Mishami Hills
(C) Khasi Hills (D) Jaintia Hills

गुजरात स्थित पहाड़ियों की पहचान कीजिए।

- (A) गिर हिल्स (B) मिशीमी हिल्स
(C) खासी हिल्स (D) जयंतिया हिल्स

9 Identify the longest river of the peninsular India. 1

- (A) Kaveri (B) Mahanadi
(C) Krishna (D) Godavari

प्रायद्वीपीय भारत की सबसे लंबी नदी की पहचान कीजिए।

- (A) कावेरी (B) महानदी
(C) कृष्णा (D) गोदावरी

10 Identify the mountain range located in Rajasthan. 1

- (A) Satpura (B) Aravali
(C) Vindhyachal (D) Balaghat

राजस्थान स्थित पर्वत श्रेणी की पहचान कीजिए।

- (A) सतपुड़ा (B) अरावली
(C) विंध्याचल (D) बालाघाट

- 11 Which one of the following is the oldest port of the eastern coast of India? 1
 (A) Kolkata (B) Visakhapatnam
 (C) Tuticorin (D) Chennai
 निम्नलिखित में से कौन-सा भारत के पूर्वी तट का सबसे पुराना बन्दरगाह है ?
 (A) कोलकाता (B) विशाखापट्टनम
 (C) तूतीकोरिन (D) चेन्नई
- 12 Who among the following cannot cast their vote in the Presidential elections in India? 1
 (A) Members of the State Legislative Assemblies
 (B) Members of the State Legislative Council
 (C) Members of the Rajya Sabha
 (D) Members of the Lok Sabha
 भारत में राष्ट्रपति के निर्वाचन में निम्नलिखित में से कौन मतदान नहीं कर सकते हैं ?
 (A) राज्य विधानसभा के सदस्य
 (B) राज्य विधान परिषद् के सदस्य
 (C) राज्यसभा के सदस्य
 (D) लोकसभा के सदस्य
- 13 Why was community of 75 sheep-wool weavers from the Gaya district in Bihar had almost given up weaving blanket? 1
 (A) Due to lack of fund (B) Due to lack of water
 (C) Due to lack of cereals (D) Due to lack of raw material
 बिहार के गया जिले में भेड़-ऊन बुनकरों के 75 परिवारों के समुदाय ने कंबल बुनना क्यों बंद कर दिया ?
 (A) धन की कमी के कारण (B) पानी की कमी के कारण
 (C) अनाज की कमी के कारण (D) कच्चे माल के अभाव के कारण
- 14 Who grants recognition to political parties in India? 1
 (A) President (B) Election Commission
 (C) NITI Aayog (D) Finance Commission
 भारत में राजनीतिक दलों को कौन मान्यता प्रदान करता है ?
 (A) राष्ट्रपति (B) चुनाव आयोग
 (C) नीति आयोग (D) वित्त आयोग
- 15 Who among the following gotten permission from the Mugal emperor Jahangir to open factories at Agra, Ahmedabad and Broach in 1615? 1
 (A) Sir Thomas Roe (B) Mir Jafar
 (C) St. George (D) Vasco da Gama
 1615 में निम्नलिखित में से किसे मुगल सम्राट जहाँगीर से आगरा, अहमदाबाद तथा भड़ूच में फैक्ट्री खोलने की अनुमति मिली ?
 (A) सर थॉमस रो (B) मीर जाफर
 (C) सेंट जार्ज (D) वास्को दी गामा

- 16 In which of the following years a British passenger ship Lusitania was sunk by 1
German U-boats killing 128 U.S. civilians who were travelling in the ship?
निम्नलिखित में से किस वर्ष एक ब्रिटिश यात्री जहाज लूसिटानिया को जर्मन की यू-बोट ने डूबा दिया
जिसमें 128 अमेरिकी नागरिक यात्रा कर रहे थे ?
(A) 1915 (B) 1815
(C) 1715 (D) 1515
- 17 Who among the following invented the hand powered spinning wheel? 1
(A) James Hargreaves (B) Jenny
(C) Edmond Cartwright (D) John Kay's
निम्नलिखित में से किसने एक हाथ संचालित चरखा स्पिनिंग जेनी का आविष्कार किया ?
(A) जेम्स हरग्रीव्स (B) जेनी
(C) एडमंड कार्टराइट (D) जॉन केयस
- 18 Which of the following is called as 'Upper House' of Parliament? 1
(A) Lok Sabha (B) Legislative Assembly
(C) Legislative Council (D) Rajya Sabha
संसद का 'उच्च सदन' निम्नलिखित में से कौन-सा है ?
(A) लोकसभा (B) विधानसभा
(C) विधान परिषद (D) राज्यसभा
- 19 Where was the Glorious Revolution of 1688 occurred, which proved a source 1
of inspiration for the world?
(A) England (B) France
(C) German (D) Poland
निम्नलिखित में से किस देश में 1688 की गौरवपूर्ण क्रान्ति हुई, जो अन्य दुनिया के लिए प्रेरणा
का एक स्रोत बनी ?
(A) इंग्लैंड (B) फ्रांस
(C) जर्मन (D) पोलैंड
- 20 In which of the following years a German Priest called Martin Luther first 1
challenged the authority of the Roman Catholic Church?
निम्नलिखित में से किस वर्ष में मार्टिन लूथर नामक एक जर्मन पुजारी ने रोमन कैथोलिक चर्च के
अधिकारियों को पहली बार चुनौती दी ?
(A) 1517 (B) 1617
(C) 1817 (D) 1417

- 21** Fill in the blanks : **2**
 The French Revolution was inspired by the ideas of philosophers such as _____ and _____. It had a deep influence on the modern world with its ideas of freedom, equality and fraternity.
 रिक्त स्थानों की पूर्ति कीजिए :
 फ्रांसीसी क्रान्ति _____ और _____ जैसे दार्शनिकों के विचारों से प्रेरित थी। इसका स्वतन्त्रता, समानता और भाईचारे के विचारों के साथ आधुनिक दुनिया पर एक गहरा प्रभाव पड़ा।
- 22** Complete the following sentences : **2**
 (I) A practice where a person is compelled to serve without any payment called _____.
 (II) Selling and buying of human beings is called _____.
 निम्नलिखित वाक्यों को पूरा कीजिए :
 (I) बिना किसी भुगतान के किसी व्यक्ति को कार्य करने के लिए मजबूर करना कहलाता है _____।
 (II) मानव खरीद-फरोक्त कहलाता है _____।
- 23** Fill in the blanks : **2**
 Indian Railway started in 1853 from _____ to _____ covering a distance of 34 km.
 रिक्त स्थानों की पूर्ति कीजिए :
 भारतीय रेल 1853 में _____ से _____ 34 किमी दूरी के बीच शुरू की गई थी।
- 24** Answer the following questions in one word : **2**
 (I) Which state agency constructs and maintains the state highways connecting the state capital with district head quarters?
 (II) Which department of the Government of India constructs and maintains the North-South Corridor?
 निम्नलिखित प्रश्नों का उत्तर एक शब्द में दीजिए :
 (I) जिला मुख्यालयों के साथ राज्य की राजधानी को जोड़ने वाले राज्य राजमार्ग का निर्माण और रखरखाव राज्य की कौन सी संस्था करती है ?
 (II) उत्तर-दक्षिण गलियारे का निर्माण एवं रखरखाव भारत सरकार के किस विभाग द्वारा किया जाता है ?
- 25** Answer the following questions in one word. **2**
 (I) Which longitude has been selected as the central meridian for determining time in India?
 (II) As the monsoon winds are coming from South-West which state they will strike first?
 निम्नलिखित प्रश्नों का उत्तर एक शब्द में दीजिए।
 (I) भारत में किस देशान्तर को समय निर्धारण करने के लिए केन्द्रीय मध्याह्न के रूप में चयन किया गया ?
 (II) मानसूनी पवनों के दक्षिण-पश्चिम से आने के कारण किस राज्य में सर्व प्रथम वर्षा होगी ?

- 26** Fill in the blanks : **2**
 In _____ Austria annexed two Slav states, Bosnia and Herzegovina, leading to hostility between _____ and Austria.
 रिक्त स्थानों की पूर्ति कीजिए :
 _____ में आस्ट्रिया ने दो स्लाव राज्यों बोस्निया और हर्जेगोविना पर कब्जा कर लिया जो _____ और आस्ट्रिया के बीच दुश्मनी का कारण बना।
- 27** Choose the correct option to fill in the blanks : **2**
 The first great _____ sculptor was _____ who made the statue 'David'.
 (A) renaissance, Martin Luther (B) democracy Titian
 (C) renaissance, Donatello (D) democracy, Leonardo
 रिक्त स्थानों की पूर्ति के लिए सही विकल्प का चयन कीजिए :
 _____ के प्रथम महान मूर्तिकार _____ थे जिन्होंने 'डेविड' की मूर्ति बनाई थी।
 (A) पुनर्जागरण, मार्टिन लूथर (B) लोकतंत्र, टाइटियन
 (C) पुनर्जागरण, डोनाटेलो (D) लोकतंत्र, लियोनार्डो
- 28** Fill in the blanks : **2**
 Mahatma Gandhi _____ is being implemented to enhance the livelihood security of people in _____.
 रिक्त स्थानों की पूर्ति कीजिए :
 महात्मा गाँधी _____ का कार्यान्वयन _____ में लोगों के लिए आजीविका सुरक्षित करने के लिए किया जा रहा है।
- 29** Fill in the blanks : **2**
 The representatives of the 13 colonies called the meeting of the First Continental Congress at Philadelphia in _____ and appealed to the King of England not to impose _____ without their consent.
 रिक्त स्थानों की पूर्ति कीजिए :
 13 उपनिवेशों के प्रतिनिधियों ने _____ में फिलाडेल्फिया में पहली महाद्वीपीय कांग्रेस की बैठक बुलाई और इंग्लैंड के राजा से अपील की, कि उनकी सहमति के बिना _____ को लागू न करें।
- 30** Fill in the blanks : **2**
 The national television transmission service of India started in _____ is one of the biggest _____ of the world.
 रिक्त स्थानों की पूर्ति कीजिए :
 भारत की राष्ट्रीय टेलीविजन प्रसारण सेवा सन् _____ में शुरू किया जो संसार का सबसे बड़ा _____ में से एक है।

- 31** Complete the following statements. **2**
- (I) England succeeded in controlling trade with India and established the East India Company in _____.
- (II) In 1696 the company developed three villages into a city in Bengal and named it _____.
- निम्नलिखित वाक्यों को पूरा कीजिए।
- (I) इंग्लैन्ड भारत के साथ व्यापार नियंत्रित करने में सफल रहा और सन् _____ में ईस्ट इंडिया कंपनी की स्थापना की।
- (II) 1696 में बंगाल में तीन गाँवों को एक शहर में विकसित किया और इसे _____ नाम दिया।
- 32** Fill in the blanks : **2**
- Ten fundamental duties have been added in Part _____ of the Constitution under Article 51A in the year _____ through the 42nd Constitutional Amendment.
- रिक्त स्थानों की पूर्ति कीजिए :
- सन् _____ में 42वें संविधान संशोधन द्वारा संविधान के भाग _____ में अनुच्छेद 51अ में दस मूल कर्तव्यों को जोड़ा गया है।
- 33** Answer the following questions in one word. **2**
- (I) What is the term of the Legislative Assembly in India?
- (II) What is the age fixed for voting right in India?
- निम्नलिखित प्रश्नों का एक शब्द में उत्तर दीजिए।
- (I) भारत में विधानसभा का कार्यकाल कितना है ?
- (II) भारत में मताधिकार के लिए कितनी आयु निर्धारित की गई है ?
- 34** Answer the following questions in one word. **2**
- (I) Rashtriya Janata Dal is primarily a regional party of which state?
- (II) All India Anna Dravida Munnetra Kazhagam is primarily a regional party of which state?
- निम्नलिखित प्रश्नों का एक शब्द में उत्तर दीजिए :
- (I) 'राष्ट्रीय जनता दल' प्रमुख रूप से किस राज्य का क्षेत्रीय दल है ?
- (II) 'आल इंडिया अन्ना द्रविड़ मुनेत्र कणगम्' प्रमुख रूप से किस राज्य का क्षेत्रीय दल है ?
- 35** Complete the following sentences : **2**
- (I) _____ is the first woman President of India.
- (II) The term of the Lok Sabha is _____ years.
- निम्नलिखित वाक्यों को पूरा कीजिए :
- (i) _____ भारत की प्रथम महिला राष्ट्रपति हैं।
- (ii) लोकसभा का कार्यकाल _____ वर्ष है।

SECTION - B / खण्ड – ब

- 36** Describe any two social practices against which social reform movement had started. **2**
किन्हीं दो सामाजिक प्रथाओं का वर्णन कीजिए, जिनके विरुद्ध समाज सुधार आन्दोलन शुरू किए गये।
- 37** Describe two main functions of Chief Minister in short. **2**
मुख्यमंत्री के दो प्रमुख कार्यों का संक्षेप में वर्णन कीजिए।
OR / अथवा
Describe any two freedoms given in Indian Constitution.
भारतीय संविधान में दी गयी किन्हीं दो स्वतंत्रताओं का वर्णन करें।
- 38** Explain any two features of the Permanent Settlement. **2**
स्थायी बंदोबस्त के किन्हीं दो लक्षणों की व्याख्या कीजिए।
OR / अथवा
Explain any two endeavours of Jyotirao Govindrao Phule.
ज्योतिराव गोविन्दराव फूले के किन्हीं दो कार्यों की व्याख्या कीजिए।
- 39** Explain two characteristics of a Political Party. **2**
राजनीतिक दल की दो विशेषताओं की व्याख्या कीजिए।
- 40** Mention the conditions required to be recognised as a national political party. **2**
राष्ट्रीय राजनीतिक पार्टी की मान्यता प्राप्त करने के लिए आवश्यक शर्तों का उल्लेख कीजिए।
- 41** Describe two legislative related powers of a Governor. **2**
राज्यपाल की विधायी संबंधी दो शक्तियों का वर्णन कीजिए।
OR / अथवा
Describe any two powers of the Prime Minister of India related to Council of Ministers.
भारत के प्रधानमंत्री की मंत्रीमंडल संबंधित दो शक्तियों का वर्णन कीजिए।
- 42** Explain any three points of importance of peace and security in the present time. **3**
वर्तमान समय में शान्ति व सुरक्षा के महत्व को तीन बिंदुओं में स्पष्ट कीजिए।
- 43** Why did British build an extensive network of railways in India? **3**
Explain any three reasons.
अंग्रेजों ने भारत में रेलवे के एक व्यापक नेटवर्क का निर्माण क्यों किया? किन्हीं तीन कारणों को स्पष्ट कीजिए।
- 44** Describe any three characteristics of the coastal plain. **3**
तटीय मैदान की किन्हीं तीन विशेषताओं का वर्णन कीजिए।
- 45** How is the concept of human development different from the traditional concept of social and economic development? Explain three points of differences. **3**
मानव विकास की अवधारणा पारम्परिक सामाजिक-आर्थिक विकास की अवधारणा से किस प्रकार भिन्न है? भिन्नता के तीन बिंदुओं में स्पष्ट कीजिए।
OR / अथवा
Explain any three tools available to a common citizen for making the government accountable.
एक आम नागरिक के लिए सरकार को उत्तरदायी बनाने के लिए उपलब्ध किन्हीं तीन साधनों को स्पष्ट कीजिए।

- 46 Analyse any three characteristics of road transport in India. 3
भारत में सड़क परिवहन की किन्हीं तीन विशेषताओं का विश्लेषण कीजिए।

OR / अथवा

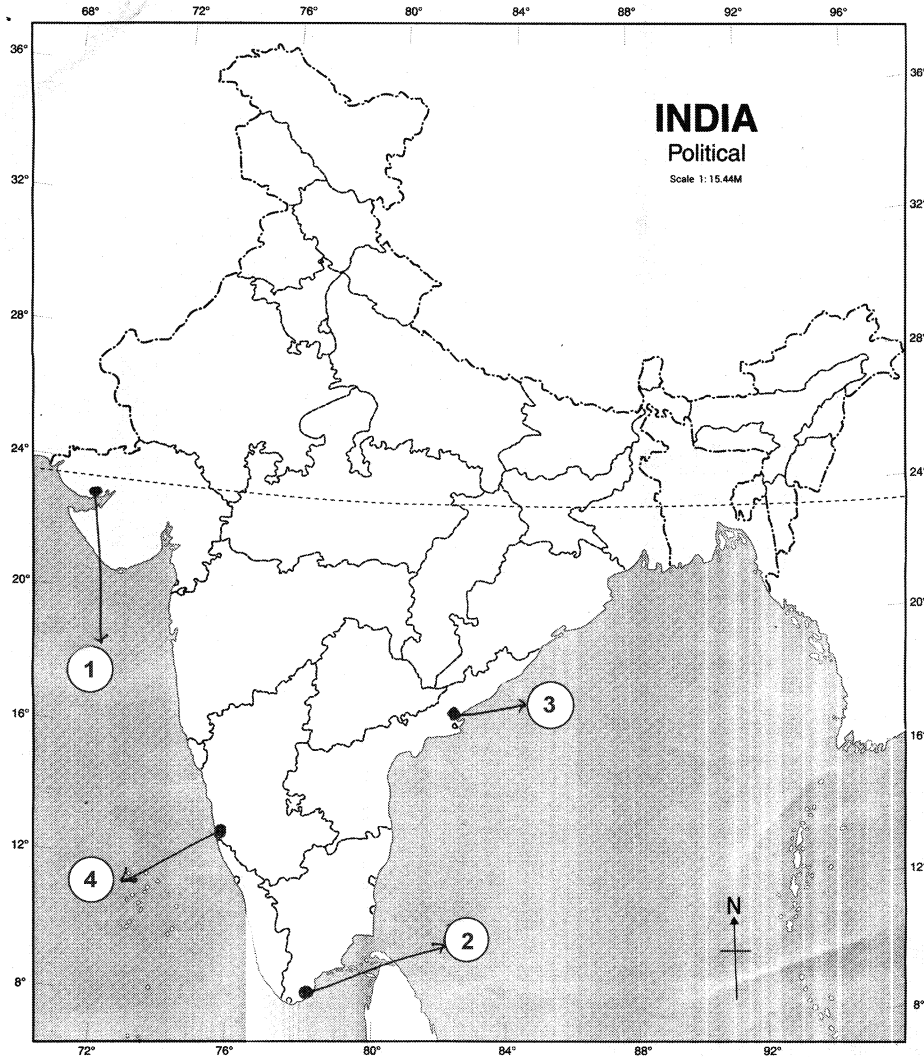
Analyse any three characteristics of rail transport in India.
भारत में रेल परिवहन की किन्हीं तीन विशेषताओं का विश्लेषण कीजिए।

- 47 Define Imperialism. Mention two advantages of the growth of transportation 3
in the colonies which helped in the spread of imperialism.
साम्राज्यवाद को परिभाषित कीजिए। साम्राज्यवाद के प्रसार में मददगार, उपनिवेशों में हुए परिवहन विकास के दो लाभों का उल्लेख करें।

OR / अथवा

Describe any three negative impacts of imperialism.
साम्राज्यवाद के किन्हीं तीन नकारात्मक प्रभावों का वर्णन कीजिए।

- 48 Identify and write in your answer book the correct names of major sea ports 4
of India shown as 1, 2, 3, 4 in the given outline map of India.
दिये गये भारत के रेखा मानचित्र में क्रमांक 1, 2, 3, 4 द्वारा दर्शाए गये मुख्य समुद्री पत्तनों को पहचानिए तथा उनके सही नाम अपनी उत्तर पुस्तिका में लिखिए।



Note : Following questions are for visually impaired candidates only in lieu of question 48.

नोट : निम्नलिखित प्रश्न केवल दृष्टिबाधित परीक्षार्थियों के लिए प्रश्न संख्या 48 के स्थान पर हैं।

Answer to these questions must not be in more than one word/sentence.

इन प्रश्नों में से प्रत्येक का उत्तर मात्र एक शब्द/वाक्य में दीजिए।

(1.1) In which state the Aravali mountains are located?

अरावली पर्वतमाला किस राज्य में स्थित है ?

(1.2) Where does the Narmada Valley lie?

नर्मदा घाटी कहाँ स्थित है ?

(1.3) Mention the names of the countries in which the Greater Himalayas are situated.

उन देशों के नाम लिखिए जिनमें महान हिमालय स्थित है।

(1.4) Name the two Purvanchal Hills.

दो पूर्वांचल पहाड़ियों के नाम बताइए।

49 In the given political outline map of India mark and label the following with appropriate symbols : **4**

(i) Western Ghat

(ii) Krishna River

(iii) Paradip Port

(iv) Porbandar

भारत के दिए गये राजनीतिक मानचित्र में निम्न को उपयुक्त चिन्हों की सहायता से दर्शाइए तथा उनके नाम लिखिए :

(i) पश्चिमी घाट

(ii) कृष्णा नदी

(iii) पारादीप बन्दरगाह

(iv) पोरबन्दर

Note : Following question is for visually impaired candidates only in lieu of Question No. 49.

नोट : निम्नलिखित प्रश्न केवल दृष्टिबाधित परीक्षार्थियों के लिए प्रश्न संख्या 49 के स्थान पर है।

Describe the four characteristics of Western Ghat.

पश्चिमी घाट की किन्हीं चार विशेषताओं का वर्णन कीजिए।

50 Describe six significant changes in the society due to Industrial Revolution. **6**
औद्योगिक क्रान्ति के कारण समाज में हुए छः महत्वपूर्ण बदलावों का वर्णन कीजिए।

OR / अथवा

Describe any six reasons of World War First.

प्रथम विश्व युद्ध के छः प्रमुख कारणों का वर्णन कीजिए।

51 "Lack of internal democracy within parties is the major challenge to political parties all over the world." Analyse the statement. **6**

“दलों के अन्दर लोकतन्त्र का अभाव दुनिया भर के राजनीतिक दलों के लिए एक बड़ी चुनौती है।”
कथन का विश्लेषण कीजिए।

OR / अथवा

Define the term Civil Society Organization. Write the names of any four contemporary civil society organizations in India.

सिविल सोसाइटी संगठन को परिभाषित कीजिए। भारत के किन्हीं चार समकालीन सिविल सोसाइटी संगठनों के नाम लिखिए।

Roll No.
अनुक्रमांक

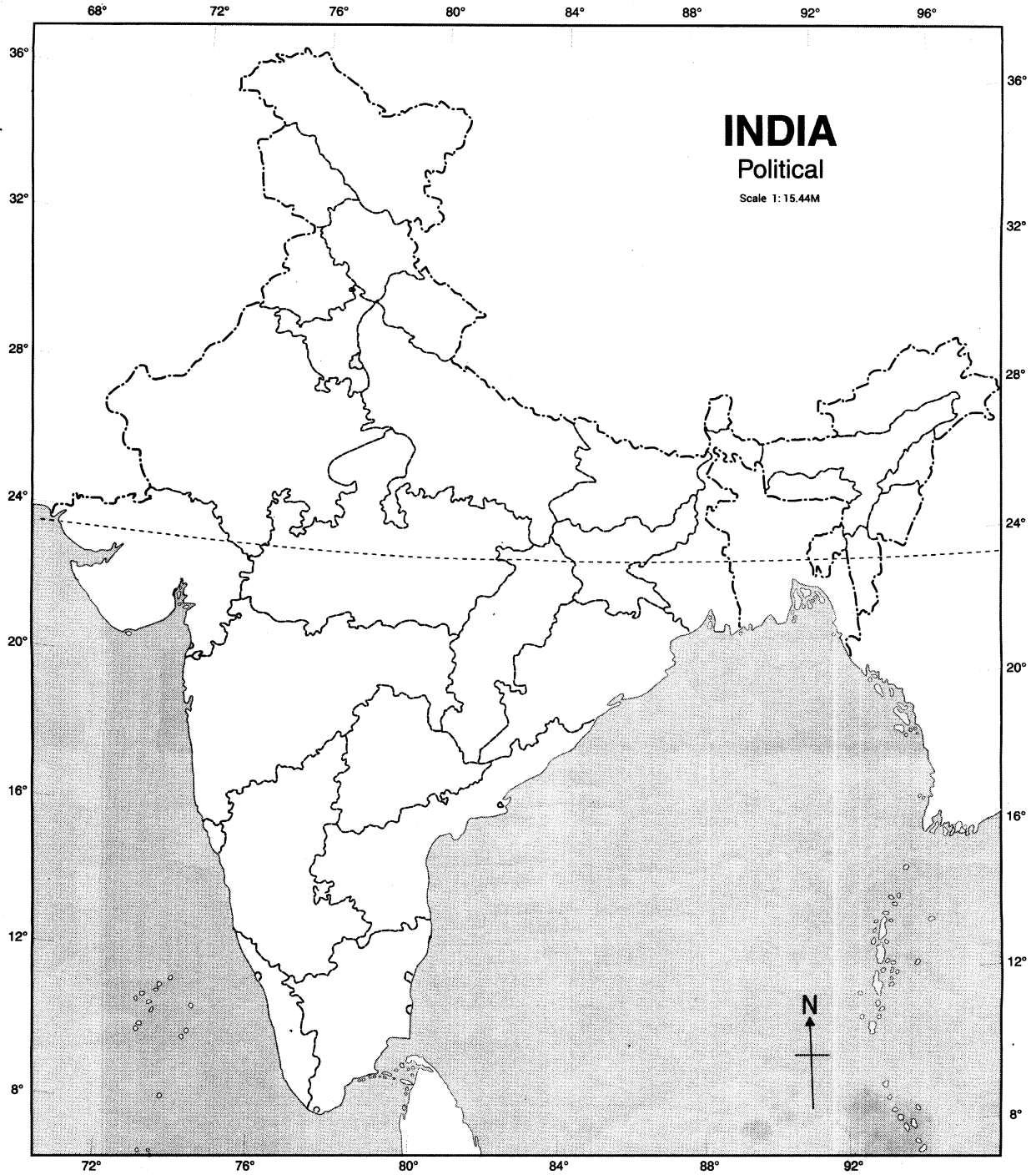
--	--	--	--	--	--	--	--	--	--	--	--

Map for Q. No. 49

प्रश्न सं. 49 के लिए रेखामानचित्र

भारत का रेखामानचित्र (राजनीतिक)

Outline Map of India (Political)



BLANK PAGE



This Question Paper consists of 51 questions and 14 printed pages + 1 Outline Map of India.
इस प्रश्न-पत्र में 51 प्रश्न तथा 14 मुद्रित पृष्ठ + 1 भारत का रेखा-मानचित्र है।

Roll No.

--	--	--	--	--	--	--	--	--	--	--	--

अनुक्रमांक

Code No. 68/OS/2
कोड संख्या

Set / सेट –

C

SOCIAL SCIENCE
सामाजिक विज्ञान
(213)

Day and Date of Examination
(परीक्षा का दिन व दिनांक)

Signature of Invigilators

(निरीक्षकों के हस्ताक्षर)

1. _____

2. _____

General Instructions :

1. Candidate must write his/her Roll Number on the first page of the Question Paper.
2. Please check the Question Paper to verify that the total pages and the total number of questions contained in the Question Paper are the same as those printed on the top of the first page. Also check to see that the questions are in sequential order.
3. For the objective type of questions, you have to choose any **one** of the four alternatives given in the question i.e. (A), (B), (C) or (D) and indicate your correct answer in the Answer-Book given to you.
4. All the questions including objective type questions are to be answered within the allotted time and no separate time limit is fixed for answering objective type questions.
5. Making any identification mark in the Answer-Book or writing Roll Number anywhere other than the specified places will lead to disqualification of the candidate.
6. Write your Question Paper Code No. **68/OS/2, Set-

C

7. (a) The Question Paper is in English/Hindi medium only. However, if you wish, you can answer in any **one** of the languages listed below :
English, Hindi, Urdu, Punjabi, Bengali, Tamil, Malayalam, Kannada, Telugu, Marathi, Oriya, Gujarati, Konkani, Manipuri, Assamese, Nepali, Kashmiri, Sanskrit and Sindhi.
You are required to indicate the language you have chosen to answer in the box provided in the Answer-Book.
(b) If you choose to write the answer in the language other than Hindi and English, the responsibility for any errors/mistakes in understanding the questions will be yours only.

सामान्य अनुदेश :

1. परीक्षार्थी प्रश्न-पत्र के पहले पृष्ठ पर अपना अनुक्रमांक अवश्य लिखें।
2. कृपया प्रश्न-पत्र को जाँच लें कि प्रश्न-पत्र के कुल पृष्ठों तथा प्रश्नों की उतनी ही संख्या है जितनी प्रथम पृष्ठ के सबसे ऊपर छपी है। इस बात की जाँच भी कर लें कि प्रश्न क्रमिक रूप में हैं।
3. वस्तुनिष्ठ प्रश्नों में आपको चार विकल्पों (A), (B), (C) अथवा (D) में से कोई एक उत्तर चुनना है तथा दी गई उत्तर-पुस्तिका में आप सही उत्तर लिखिए।
4. वस्तुनिष्ठ प्रश्नों के साथ-साथ सभी प्रश्नों के उत्तर निर्धारित अवधि के भीतर ही देने हैं। वस्तुनिष्ठ प्रश्नों के लिए अलग से समय नहीं दिया जाएगा।
5. उत्तर-पुस्तिका में पहचान-चिह्न बनाने अथवा निर्दिष्ट स्थानों के अतिरिक्त कहीं भी अनुक्रमांक लिखने पर परीक्षार्थी को अयोग्य ठहराया जायेगा।
6. अपनी उत्तर-पुस्तिका पर प्रश्नपत्र की कोड संख्या **68/OS/2, Set-C** लिखें।
7. (क) प्रश्न-पत्र केवल अंग्रेजी/हिंदी माध्यम में है। फिर भी, यदि आप चाहें तो नीचे दी गई किसी एक भाषा में उत्तर दे सकते हैं :

अंग्रेजी, हिंदी, उर्दू, पंजाबी, बंगला, तमिल, मलयालम, कन्नड़, तेलुगू, मराठी, उड़िया, गुजराती, कोंकणी, मणिपुरी, असमिया, नेपाली, कश्मीरी, संस्कृत और सिंधी।

कृपया उत्तर-पुस्तिका में दिए गए बॉक्स में लिखें कि आप किस भाषा में उत्तर लिख रहे हैं।

- (ख) यदि आप हिंदी एवं अंग्रेजी के अतिरिक्त किसी अन्य भाषा में उत्तर लिखते हैं तो प्रश्नों को समझने में होने वाली त्रुटियों / गलतियों की जिम्मेदारी केवल आपकी होगी।

General Instruction / सामान्य अनुदेश :

In case of any doubt or confusion in the question paper, the English Version will prevail.
प्रश्नपत्र में किसी भी प्रकार के संदेह अथवा दुविधा की स्थिति में अंग्रेजी अनुवाद ही मान्य होगा।

NOTE / निर्देश :

- (1) Answers of all questions are to be given in the Answer-Book given to you.

सभी प्रश्नों के उत्तर आपको दी गयी उत्तर पुस्तिका में ही लिखें।

- (2) 15 minutes time has been allotted to read this question paper. The question paper will be distributed at 02.15 p.m. From 02.15 p.m. to 02.30 p.m., the students will read the question paper only and will not write any answer on the answer-book during this period.

इस प्रश्न-पत्र को पढ़ने के लिए 15 मिनट का समय दिया गया है। प्रश्न-पत्र का वितरण दोपहर में 02.15 बजे किया जाएगा। 02.15 बजे से 02.30 बजे तक छात्र केवल प्रश्न-पत्र को पढ़ेंगे और इस अवधि के दौरान वे उत्तर-पुस्तिका पर कोई उत्तर नहीं लिखेंगे।

SOCIAL SCIENCE
सामाजिक विज्ञान
(213)

Time : 3 Hours]

[Maximum Marks : 100

समय : 3 घण्टे]

[पूर्णांक : 100

Note :

- (i) This question paper consists of **51** questions in all.
- (ii) **All** questions are **compulsory**.
- (iii) Marks are given against each question.
- (iv) **Section - A** consists of
 - (a) **Q. No. 1 to 20** - Multiple Choice Type Questions (MCQs) carrying **1** mark each. Select and write the most appropriate option out of the four options given in each of these questions.
 - (b) **Q. No. 21 to 35** - Objective type questions carrying **2** marks each (with **2** sub parts of **1** mark each). Attempt these questions as per the instructions given for each of the questions.
- Section - B** consists of
 - (c) **Q. No. 36 to 41** - Very Short answer type questions carrying **2** marks each to be answered in the range of **30 to 50** words. Attempt these questions as per the instructions given for each of the questions.
 - (d) **Q. No. 42 to 47** - Short answer type questions carrying **3** marks each to be answered in the range of **50 to 80** words.
 - (e) **Q. No. 48 & 49 - Skill (Map) based questions** carrying **4** marks each. (Alternative questions are given in lieu of map based questions for Visually Impaired students.)
 - (f) **Q. No. 50 & 51** - Long Answer type questions carrying **6** marks each to be answered in **80 to 120** words.

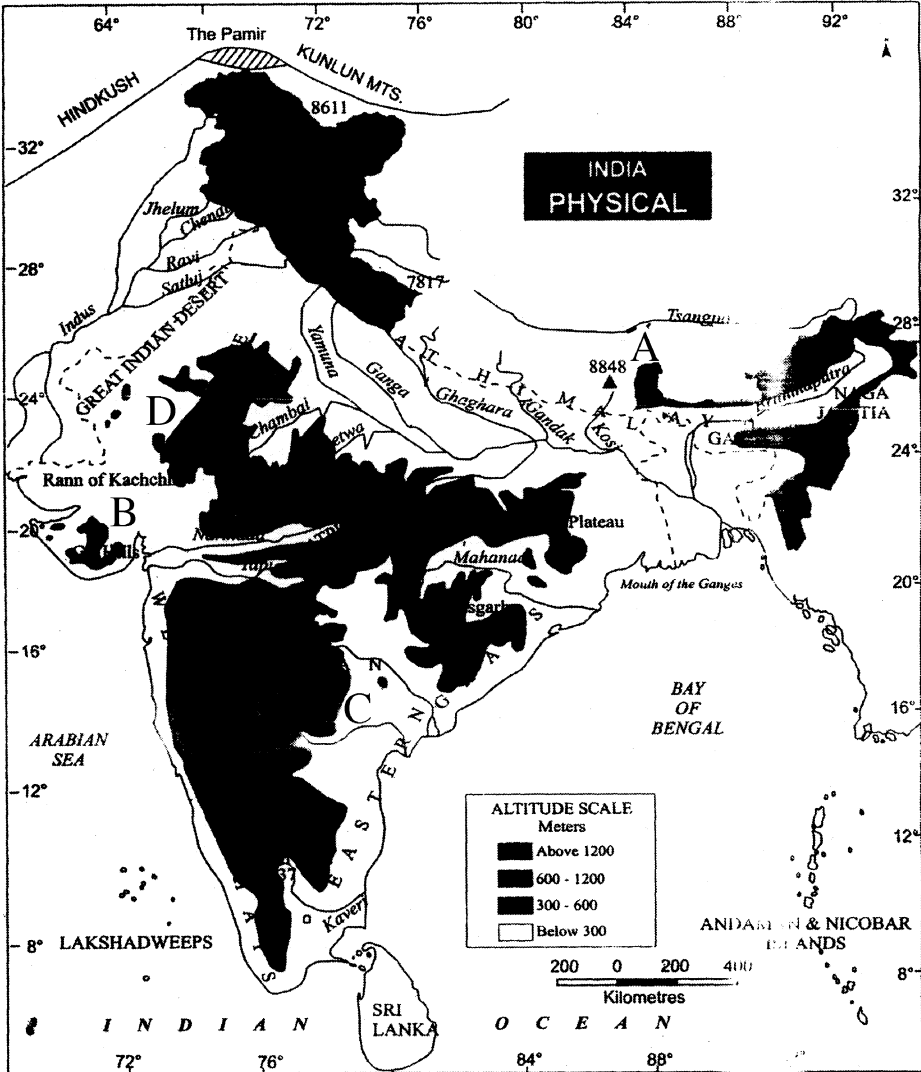
निर्देश :

- (i) इस प्रश्नपत्र में कुल **51** प्रश्न हैं।
- (ii) सभी प्रश्न अनिवार्य हैं।
- (iii) सभी प्रश्नों के अंक उनके साथ दिये गये हैं।
- (iv) खण्ड – अ के प्रश्न
 - (a) प्रश्न संख्या **1** से **20** तक – **1** अंक वाले बहुविकल्पीय प्रकार के प्रश्न हैं। दिये गये चार विकल्पों में से सर्वाधिक उपयुक्त विकल्प को चुनें तथा लिखें।
 - (b) प्रश्न संख्या **21** से **35** तक – **2** अंक वाले वस्तुनिष्ठ प्रकार के प्रश्न हैं। (इनमें से कुछ प्रश्नों में प्रत्येक **1** अंक के **2** उप-भागों के साथ)। इन प्रश्नों का उत्तर प्रश्नों के साथ दिये गये निर्देशों के अनुसार दीजिये।
- खण्ड – ब के प्रश्न
 - (c) प्रश्न संख्या **36** से **41** तक – **2** अंक वाले अति लघु-उत्तरीय प्रकार के प्रत्येक प्रश्न का उत्तर **30** से **50** शब्दों में दीजिये। इन प्रश्नों का उत्तर प्रश्नों के साथ दिये गये निर्देशों के अनुसार दें।
 - (d) प्रश्न संख्या **42** से **47** तक – **3** अंक वाले लघु-उत्तरीय प्रकार के प्रत्येक प्रश्न का उत्तर **50** से **80** शब्दों में दें।
 - (e) प्रश्न संख्या **48** एवं **49** – कौशल (मानचित्र) पर आधारित **4** अंक वाले प्रश्न हैं। (दृष्टिबाधित छात्रों हेतु मानचित्र पर आधारित प्रश्नों के स्थान पर वैकल्पिक प्रश्न दिये गये हैं।)
 - (f) प्रश्न संख्या **50** एवं **51** – **6** अंक वाले दीर्घ-उत्तरीय प्रकार के प्रत्येक प्रश्न का उत्तर **80** से **120** शब्दों में दें।

SECTION - A / खण्ड - अ

- 1 In which of the following years a British passenger ship Lusitania was sunk by 1
German U-boats killing 128 U.S. civilians who were travelling in the ship?
निम्नलिखित में से किस वर्ष एक ब्रिटिश यात्री जहाज लूसिटानिया को जर्मन की यू-बोट ने डूबा दिया
जिसमें 128 अमेरिकी नागरिक यात्रा कर रहे थे ?
(A) 1915 (B) 1815
(C) 1715 (D) 1515
- 2 Who among the following invented the hand powered spinning wheel? 1
(A) James Hargreaves (B) Jenny
(C) Edmond Cartwright (D) John Kay's
निम्नलिखित में से किसने एक हाथ संचालित चरखा स्पिनिंग जेनी का आविष्कार किया ?
(A) जेम्स हरग्रीव्स (B) जेनी
(C) एडमंड कार्टराइट (D) जॉन केयस
- 3 In which of the following years a German Priest called Martin Luther first 1
challenged the authority of the Roman Catholic Church?
निम्नलिखित में से किस वर्ष में मार्टिन लूथर नामक एक जर्मन पुजारी ने रोमन कैथोलिक चर्च के
अधिकारियों को पहली बार चुनौती दी ?
(A) 1517 (B) 1617
(C) 1817 (D) 1417
- 4 Where was the Glorious Revolution of 1688 occurred, which proved a source 1
of inspiration for the world?
(A) England (B) France
(C) German (D) Poland
निम्नलिखित में से किस देश में 1688 की गौरवपूर्ण क्रान्ति हुई, जो अन्य दुनिया के लिए प्रेरणा
का एक स्रोत बनी ?
(A) इंग्लैंड (B) फ्रांस
(C) जर्मन (D) पोलैंड
- 5 As direction given by the Wood's Despatch, when were Department of 1
Education instituted in all provinces and affiliated universities opened in
Calcutta, Madras and Bombay?
वुड्स डिस्पैच के निर्देश के कारण कलकत्ता, मद्रास और बंबई में कब विश्वविद्यालय और सभी प्रांतों
में शिक्षा विभाग स्थापित किए गये।
(A) 1857 (B) 1757
(C) 1657 (D) 1570
- 6 Which famous lagoon is located at Malabar Coast? 1
(A) Vembanad (B) Sambhar
(C) Chilka (D) Pulicat
निम्नलिखित में से कौन सी प्रसिद्ध झील मालाबार तट पर स्थित है ?
(A) वेम्बनाड (B) सांभर
(C) चिल्का (D) पुलिकट

दिए गए मानचित्र का ध्यानपूर्वक अध्ययन कीजिए और प्रश्न संख्या 7 से 10 तक का उत्तर दीजिए।



- 7 Identify the peak of Himalaya marked 'A' on the map.

1

- (A) Namcha Barva (B) Mt. Everest
(C) Nanda Devi (D) Garo

मानचित्र में अंकित 'A' हिमालय की चोटी की पहचान कीजिए।

- (A) नामचा बरवा (B) माउंट एवरेस्ट
(C) नंदा देवी (D) गारो

- 8** Identify the hills marked 'B' on the map.

1

- (A) Gir Hills (B) Mishami Hills
(C) Khasi Hills (D) Jaintia Hills

मानचित्र पर अंकित 'B' पहाड़ियों की पहचान कीजिए।

- (A) गिर हिल्स (B) मिशीमी हिल्स
(C) खासी हिल्स (D) जयंतिया हिल्स

9 Identify the river marked 'C' on the map. 1

- (A) Kaveri (B) Mahanadi
(C) Krishna (D) Godavari

मानचित्र पर अंकित 'C' नदी की पहचान कीजिए।

- (A) कावेरी (B) महानदी
(C) कृष्णा (D) गोदावरी

10 Identify the mountain range marked 'D' on the map. 1

- (A) Satpura (B) Aravali
(C) Vindhyachal (D) Balaghat

मानचित्र पर अंकित 'D' पर्वत श्रेणी की पहचान कीजिए।

- (A) सतपुड़ा (B) अरावली
(C) विंध्याचल (D) बालाघाट

Note : Following questions are for visually impaired candidates only in lieu of Q No. 7 to 10.

नोट : निम्नलिखित प्रश्न केवल दृष्टिबाधित परीक्षार्थियों के लिए प्रश्न संख्या 7 से 10 के स्थान पर है।

7 Identify the highest peak of Himalaya. 1

- (A) Namcha Barwa (B) Mt. Everest
(C) Nanda Devi (D) Garo

हिमालय की सबसे ऊँची चोटी की पहचान कीजिए।

- (A) नामचा बरवा (B) माउंट एवरेस्ट
(C) नंदा देवी (D) गारो

8 Identify the hills located in Gujarat. 1

- (A) Gir Hills (B) Mishami Hills
(C) Khasi Hills (D) Jaintia Hills

गुजरात स्थित पहाड़ियों की पहचान कीजिए।

- (A) गिर हिल्स (B) मिशीमी हिल्स
(C) खासी हिल्स (D) जयंतिया हिल्स

9 Identify the longest river of the peninsular India. 1

- (A) Kaveri (B) Mahanadi
(C) Krishna (D) Godavari

प्रायद्वीपीय भारत की सबसे लंबी नदी की पहचान कीजिए।

- (A) कावेरी (B) महानदी
(C) कृष्णा (D) गोदावरी

10 Identify the mountain range located in Rajasthan. 1

- (A) Satpura (B) Aravali
(C) Vindhyachal (D) Balaghat

राजस्थान स्थित पर्वत श्रेणी की पहचान कीजिए।

- (A) सतपुड़ा (B) अरावली
(C) विंध्याचल (D) बालाघाट

- 11 As per 2011 Census what is the literacy rate of India? 1
 सन 2011 की जनगणना के अनुसार भारत की साक्षरता दर कितनी है ?
 (A) 74.04% (B) 84.04%
 (C) 64.03% (D) 54.04%
- 12 When was the Right to Education Act passed by Parliament? 1
 संसद द्वारा शिक्षा का अधिकार अधिनियम कब पारित किया गया ?
 (A) 2009 (B) 2008
 (C) 2007 (D) 2006
- 13 Which one of the following is **not** a National Political Party? 1
 (A) All India Congress Party (B) Bhartiya Janata Party
 (C) Aam Aadmi Party (D) Rashtriya Janata Dal
 निम्नलिखित में से कौन सा राष्ट्रीय राजनीतिक दल नहीं है ?
 (A) अखिल भारतीय कांग्रेस पार्टी (B) भारतीय जनता पार्टी
 (C) आम आदमी पार्टी (D) राष्ट्रीय जनता दल
- 14 What is the term of members of Rajya Sabha? 1
 (A) 6 years (B) 5 years
 (C) 3 years (D) 7 years
 राज्यसभा के सदस्यों का चुनाव कितने वर्षों के लिए होता है ?
 (A) 6 वर्ष (B) 5 वर्ष
 (C) 3 वर्ष (D) 7 वर्ष
- 15 From the following who appoints the Chief Justice and other Judges? 1
 (A) President of India (B) Prime Minister of India
 (C) Chief Election Commissioner (D) Vice President
 मुख्य न्यायाधीश तथा अन्य न्यायाधीशों की नियुक्ति निम्नलिखित में से कौन करता है ?
 (A) भारत के राष्ट्रपति (B) भारत का प्रधानमंत्री
 (C) मुख्य चुनाव आयुक्त (D) उपराष्ट्रपति
- 16 What is the minimum age requirement for appointment as Governor of any state in India? 1
 (A) 35 years (B) 45 years
 (C) 30 years (D) 32 years
 भारत में किसी राज्य के राज्यपाल को नियुक्त होने के लिए कम से कम कितनी आयु होनी चाहिए ?
 (A) 35 वर्ष (B) 45 वर्ष
 (C) 30 वर्ष (D) 32 वर्ष

17 How many members of Rajya Sabha are nominated by the President of India? 1

राज्यसभा के लिए कितने सदस्य राष्ट्रपति द्वारा मनोनीत किए जाते हैं ?

- (A) 15 (B) 12
(C) 10 (D) 11

18 In which of the following Parts of Indian Constitution the Fundamental Rights are embodied? 1

- (A) Part-I (B) Part-II
(C) Part-III (D) Part-IV

भारतीय संविधान के निम्न में से किस भाग में मौलिक अधिकार सम्मिलित किए गये हैं ?

- (A) भाग-I (B) भाग-II
(C) भाग-III (D) भाग-IV

19 Why was community of 75 sheep-wool weavers from the Gaya district in Bihar had almost given up weaving blanket? 1

- (A) Due to lack of fund
(B) Due to lack of water
(C) Due to lack of cereals
(D) Due to lack of raw material

बिहार के गया जिले में भेड़-ऊन बुनकरों के 75 परिवारों के समुदाय ने कंबल बुनना क्यों बंद कर दिया ?

- (A) धन की कमी के कारण
(B) पानी की कमी के कारण
(C) अनाज की कमी के कारण
(D) कच्चे माल के अभाव के कारण

20 From the following, who is the leader of Civil Society organization related to Narmada Bachao Andolan in recent time? 1

- (A) Aruna Roy (B) Medha Patkar
(C) Anna Hazare (D) Ela Bhatt

निम्नलिखित में से कौन नेता वर्तमान समय में सिविल सोसाइटी संगठन के प्रमुख नेता हैं जो नर्मदा बचाओ आन्दोलन से संबंधित है ?

- (A) अरुणा राय (B) मेधा पाटकर
(C) अन्ना हजारे (D) इला भट्ट

- 21** Fill in the blanks : **2**
 The national television transmission service of India started in _____ is one of the biggest _____ of the world.
 रिक्त स्थानों की पूर्ति कीजिए :
 भारत की राष्ट्रीय टेलीविजन प्रसारण सेवा सन् _____ में शुरू किया जो संसार का सबसे बड़ा _____ में से एक है।
- 22** Complete the following sentences : **2**
 (I) _____ is the first woman President of India.
 (II) The term of the Lok Sabha is _____ years.
 निम्नलिखित वाक्यों को पूरा कीजिए :
 (i) _____ भारत की प्रथम महिला राष्ट्रपति हैं।
 (ii) लोकसभा का कार्यकाल _____ वर्ष है।
- 23** Fill in the blanks : **2**
 Ten fundamental duties have been added in Part _____ of the Constitution under Article 51A in the year _____ through the 42nd Constitutional Amendment.
 रिक्त स्थानों की पूर्ति कीजिए :
 सन् _____ में 42वें संविधान संशोधन द्वारा संविधान के भाग _____ में अनुच्छेद 51अ में दस मूल कर्तव्यों को जोड़ा गया है।
- 24** Answer the following questions in one word. **2**
 (I) What is the term of the Legislative Assembly in India?
 (II) What is the age fixed for voting right in India?
 निम्नलिखित प्रश्नों का एक शब्द में उत्तर दीजिए।
 (I) भारत में विधानसभा का कार्यकाल कितना है ?
 (II) भारत में मताधिकार के लिए कितनी आयु निर्धारित की गई है ?
- 25** Complete the following sentences : **2**
 (I) A practice where a person is compelled to serve without any payment called _____.
 (II) Selling and buying of human beings is called _____.
 निम्नलिखित वाक्यों को पूरा कीजिए :
 (I) बिना किसी भुगतान के किसी व्यक्ति को कार्य करने के लिए मजबूर करना कहलाता है _____।
 (II) मानव खरीद-फरोक्त कहलाता है _____।

- 26** Complete the following statements. **2**
- (I) England succeeded in controlling trade with India and established the East India Company in _____.
- (II) In 1696 the company developed three villages into a city in Bengal and named it _____.
- निम्नलिखित वाक्यों को पूरा कीजिए।
- (I) इंग्लैण्ड भारत के साथ व्यापार नियंत्रित करने में सफल रहा और सन् _____ में ईस्ट इंडिया कंपनी की स्थापना की।
- (II) 1696 में बंगाल में तीन गाँवों को एक शहर में विकसित किया और इसे _____ नाम दिया।
- 27** Choose the correct option to fill in the blanks : **2**
- The first great _____ sculptor was _____ who made the statue 'David'.
- (A) renaissance, Martin Luther (B) democracy Titian
(C) renaissance, Donatello (D) democracy, Leonardo
- रिक्त स्थानों की पूर्ति के लिए सही विकल्प का चयन कीजिए :
- _____ के प्रथम महान मूर्तिकार _____ थे जिन्होंने 'डेविड' की मूर्ति बनाई थी।
- (A) पुनर्जागरण, मार्टिन लूथर (B) लोकतंत्र, टाइटियन
(C) पुनर्जागरण, डोनाटेलो (D) लोकतंत्र, लियोनार्डो
- 28** Choose the correct option to fill in the blanks : **2**
- The literal meaning of Renaissance is _____ it started in _____ around 14th century A.D.
- (A) Origin, France (B) Rebirth, Italy
(C) Rebirth, England (D) Reorigin, Germany
- रिक्त स्थानों की पूर्ति के लिए सही विकल्प का चयन कीजिए :
- पुनर्जागरण का शाब्दिक अर्थ है _____ यह _____ में 14^{वीं} सदी के आसपास प्रारम्भ हुआ।
- (A) उत्पत्ति, फ्रांस (B) पुनर्जन्म, इटली
(C) पुनर्जन्म, इंग्लैण्ड (D) पुनःउत्पत्ति, जर्मनी
- 29** Fill in the blanks : **2**
- In _____ Austria annexed two Slav states, Bosnia and Herzegovina, leading to hostility between _____ and Austria.
- रिक्त स्थानों की पूर्ति कीजिए :
- _____ में आस्ट्रिया ने दो स्लाव राज्यों बोस्निया और हर्जेगोविना पर कब्जा कर लिया जो _____ और आस्ट्रिया के बीच दुश्मनी का कारण बना।
- 30** Fill in the blanks : **2**
- Mahatma Gandhi _____ is being implemented to enhance the livelihood security of people in _____.
- रिक्त स्थानों की पूर्ति कीजिए :
- महात्मा गाँधी _____ का कार्यान्वयन _____ में लोगों के लिए आजीविका सुरक्षित करने के लिए किया जा रहा है।

- 31** Fill in the blanks : **2**
 Indian Railway started in 1853 from _____ to _____ covering a distance of 34 km.
 रिक्त स्थानों की पूर्ति कीजिए :
 भारतीय रेल 1853 में _____ से _____ 34 किमी दूरी के बीच शुरू की गई थी।
- 32** Answer the following questions in one word. **2**
 (I) Rashtriya Janata Dal is primarily a regional party of which state?
 (II) All India Anna Dravida Munnetra Kazhagam is primarily a regional party of which state?
 निम्नलिखित प्रश्नों का एक शब्द में उत्तर दीजिए :
 (I) 'राष्ट्रीय जनता दल' प्रमुख रूप से किस राज्य का क्षेत्रीय दल है ?
 (II) 'आल इंडिया अन्ना द्रविड़ मुनेत्र कषगम्' प्रमुख रूप से किस राज्य का क्षेत्रीय दल है ?
- 33** Answer the following questions in one word. **2**
 (I) Which longitude has been selected as the central meridian for determining time in India?
 (II) As the monsoon winds are coming from South-West which state they will strike first?
 निम्नलिखित प्रश्नों का उत्तर एक शब्द में दीजिए।
 (I) भारत में किस देशान्तर को समय निर्धारण करने के लिए केन्द्रीय मध्यान के रूप में चयन किया गया ?
 (II) मानसूनी पवनों के दक्षिण-पश्चिम से आने के कारण किस राज्य में सर्व प्रथम वर्षा होगी ?
- 34** Answer the following questions in one word : **2**
 (I) Which state agency constructs and maintains the state highways connecting the state capital with district head quarters?
 (II) Which department of the Government of India constructs and maintains the North-South Corridor?
 निम्नलिखित प्रश्नों का उत्तर एक शब्द में दीजिए :
 (I) जिला मुख्यालयों के साथ राज्य की राजधानी को जोड़ने वाले राज्य राजमार्ग का निर्माण और रखरखाव राज्य की कौन सी संस्था करती है ?
 (II) उत्तर-दक्षिण गलियारे का निर्माण एवं रखरखाव भारत सरकार के किस विभाग द्वारा किया जाता है ?
- 35** Fill in the blanks : **2**
 The representatives of the 13 colonies called the meeting of the First Continental Congress at Philadelphia in _____ and appealed to the King of England not to impose _____ without their consent.
 रिक्त स्थानों की पूर्ति कीजिए :
 13 उपनिवेशों के प्रतिनिधियों ने _____ में फिलाडेल्फिया में पहली महाद्वीपी काँग्रेस की बैठक बुलाई और इंग्लैंड के राजा से अपील की, कि उनकी सहमति के बिना _____ को लागू न करें।

SECTION - B / खण्ड – ब

- 36** Explain any two features of the Permanent Settlement. **2**
स्थायी बंदोबस्त के किन्हीं दो लक्षणों की व्याख्या कीजिए।
OR / अथवा
Explain any two endeavours of Jyotirao Govindrao Phule.
ज्योतिराव गोविन्दराव फूले के किन्हीं दो कार्यों की व्याख्या कीजिए।
- 37** Describe any two endeavours of Raja Rammohan Roy in the field of **2**
social reforms.
समाज सुधार के क्षेत्र में राजा राममोहन राय के किन्हीं दो कार्यों का वर्णन कीजिए।
- 38** Describe two legislative related powers of a Governor. **2**
राज्यपाल की विधायी संबंधी दो शक्तियों का वर्णन कीजिए।
OR / अथवा
Describe any two powers of the Prime Minister of India related to Council of Ministers.
भारत के प्रधानमंत्री की मंत्रीमंडल संबंधित दो शक्तियों का वर्णन कीजिए।
- 39** Describe two main functions of Chief Minister in short. **2**
मुख्यमंत्री के दो प्रमुख कार्यों का संक्षेप में वर्णन कीजिए।
OR / अथवा
Describe any two freedom given in Indian Constitution.
भारतीय संविधान में दी गयी किन्हीं दो स्वतंत्रताओं का वर्णन करें।
- 40** Mention the Jurisdictions of the High Court. **2**
उच्च न्यायालय के अधिकार क्षेत्रों का उल्लेख कीजिए।
- 41** Explain any two characteristics of 'Pressure Groups'. **2**
'दबाव समूहों' की किन्हीं दो विशेषताओं की व्याख्या कीजिए।
- 42** Explain any three points of importance of peace and security in the present time. **3**
वर्तमान समय में शान्ति व सुरक्षा के महत्व को तीन बिंदुओं में स्पष्ट कीजिए।
- 43** Explain any three contributions of Ishwar Chandra Vidyasagar. **3**
ईश्वर चन्द्र विद्यासागर के किन्हीं तीन योगदानों की व्याख्या कीजिए।
- 44** Differentiate between Himalayan and Peninsular drainage system by giving **3**
any three differences in each.
हिमालय और प्रायद्वीपीय नदी प्रणाली के बीच कोई तीन अंतर कीजिए।
- 45** Define Imperialism. Mention two advantages of the growth of transportation **3**
in the colonies which helped in the spread of imperialism.
साम्राज्यवाद को परिभाषित कीजिए। साम्राज्यवाद के प्रसार में मददगार, उपनिवेशों में हुए परिवहन विकास के दो लाभों का उल्लेख करें।
OR / अथवा
Describe any three negative impacts of imperialism.
साम्राज्यवाद के किन्हीं तीन नकारात्मक प्रभावों का वर्णन कीजिए।

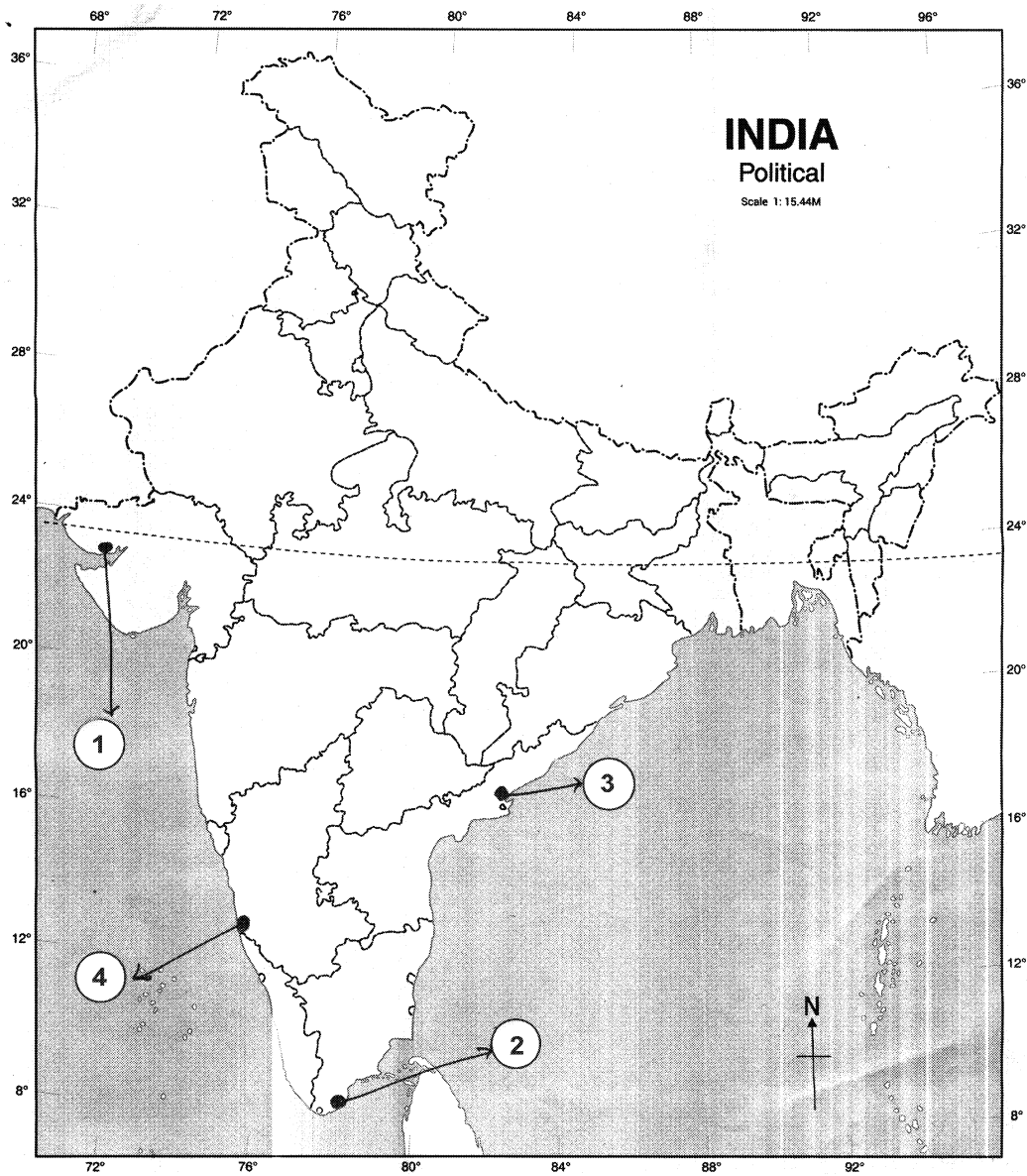
46 Describe any three factors affecting the climate of India. 3
भारत की जलवायु को प्रभावित करने वाले किन्हीं तीन कारकों का वर्णन कीजिए।

47 Analyse any three characteristics of road transport in India. 3
भारत में सड़क परिवहन की किन्हीं तीन विशेषताओं का विश्लेषण कीजिए।

OR / अथवा

Analyse any three characteristics of rail transport in India.
भारत में रेल परिवहन की किन्हीं तीन विशेषताओं का विश्लेषण कीजिए।

48 Identify and write in your answer book the correct names of major sea ports of India shown as 1, 2, 3, 4 in the given outline map of India. 4
दिये गये भारत के रेखा मानचित्र में क्रमांक 1, 2, 3, 4 द्वारा दर्शाए गये मुख्य समुद्री पत्तनों को पहचानिए तथा उनके सही नाम अपनी उत्तर पुस्तिका में लिखिए।



Note : Following questions are for visually impaired candidates only in lieu of question 48.

नोट : निम्नलिखित प्रश्न केवल दृष्टिबाधित परीक्षार्थियों के लिए प्रश्न संख्या 48 के स्थान पर हैं।

Answer to these questions must not be in more than one word/sentence.

इन प्रश्नों में से प्रत्येक का उत्तर मात्र एक शब्द/वाक्य में दीजिए।

(1.1) In which state the Aravali mountains are located?

अरावली पर्वतमाला किस राज्य में स्थित है ?

(1.2) Where does the Narmada Valley lie?

नर्मदा घाटी कहाँ स्थित है ?

(1.3) Mention the names of the countries in which the Greater Himalayas are situated.

उन देशों के नाम लिखिए जिनमें महान हिमालय स्थित है।

(1.4) Name the two Purvanchal Hills.

दो पूर्वांचल पहाड़ियों के नाम बताइए।

49 In the given political outline map of India mark and label the following with appropriate symbols : **4**

(i) Western Ghat

(ii) Krishna River

(iii) Paradip Port

(iv) Porbandar

भारत के दिए गये राजनीतिक मानचित्र में निम्न को उपयुक्त चिन्हों की सहायता से दर्शाइए तथा उनके नाम लिखिए :

(i) पश्चिमी घाट

(ii) कृष्णा नदी

(iii) पारादीप बन्दरगाह

(iv) पोरबन्दर

Note : Following question is for visually impaired candidates only in lieu of Question No. 49.

नोट : निम्नलिखित प्रश्न केवल दृष्टिबाधित परीक्षार्थियों के लिए प्रश्न संख्या 49 के स्थान पर है।

Describe the four characteristics of Western Ghat.

पश्चिमी घाट की किन्हीं चार विशेषताओं का वर्णन कीजिए।

50 Describe six significant changes in the society due to Industrial Revolution. **6**

औद्योगिक क्रान्ति के कारण समाज में हुए छः महत्वपूर्ण बदलावों का वर्णन कीजिए।

OR / अथवा

Describe any six reasons of World War First.

प्रथम विश्व युद्ध के छः प्रमुख कारणों का वर्णन कीजिए।

51 Analyse the main features of 'Political Parties'. **6**

‘राजनीतिक दलों’ की प्रमुख विशेषताओं का विश्लेषण करें।

OR / अथवा

How is the Governor appointed? Analyse the functions of the Governor.

राज्यपाल की नियुक्ति कैसे होती है ? राज्यपाल के कार्यों का विश्लेषण कीजिए।

Roll No.
अनुक्रमांक

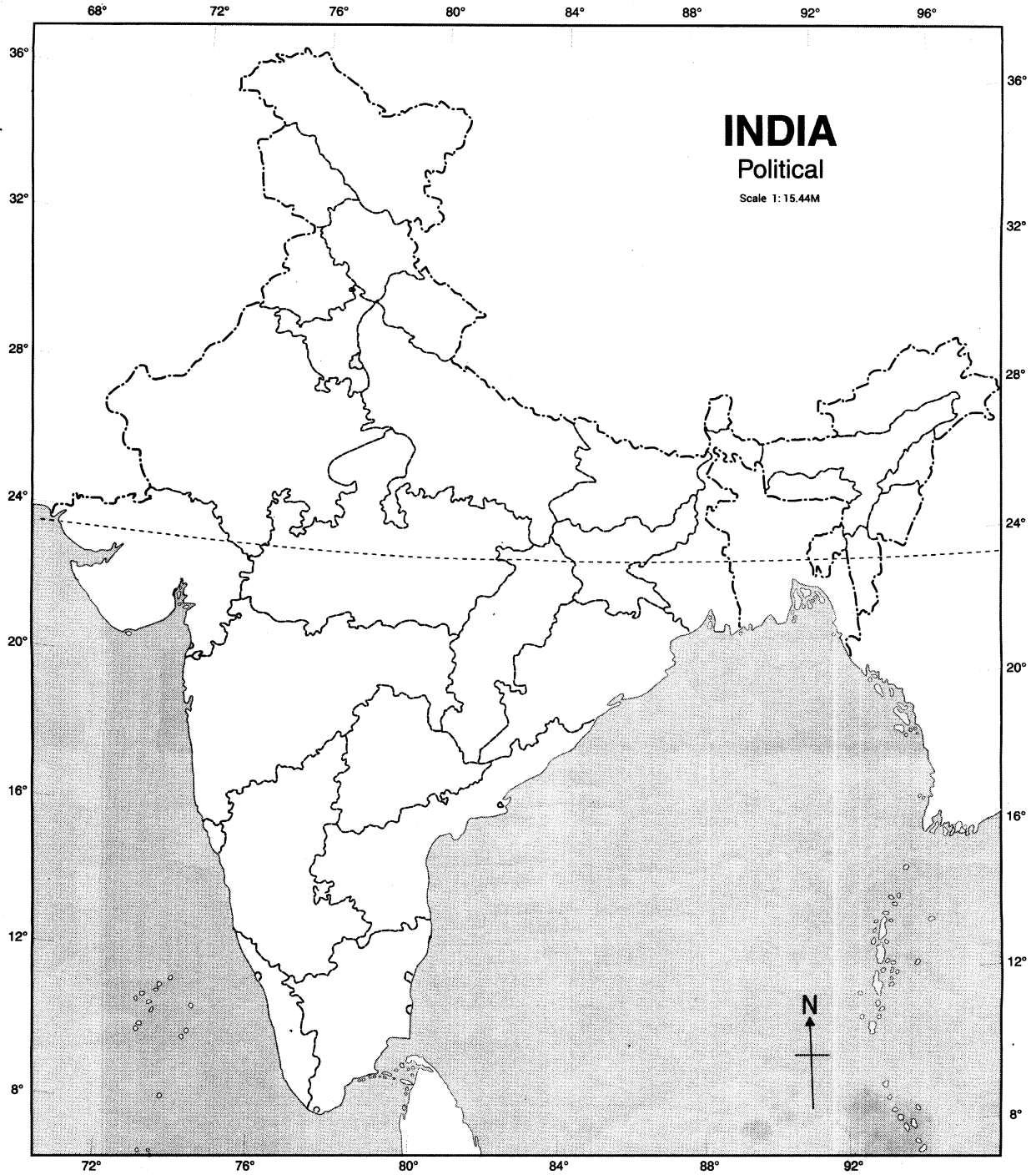
--	--	--	--	--	--	--	--	--	--	--

Map for Q. No. 49

प्रश्न सं. 49 के लिए रेखामानचित्र

भारत का रेखामानचित्र (राजनीतिक)

Outline Map of India (Political)



BLANK PAGE

